

17 ద్రవ్యం



1. కింది నోట్లు, నాణాలను చూడండి. ఏది ఎంతో గుర్తించండి. చెప్పండి.



నాణాలను, నోట్లను పరిశీలించజేయండి. వాటిని గుర్తించజేయండి. ఏది ఎంతో చెప్పించండి.

2. కింది నాణాలను చూడండి. చిల్లర ఇంకెన్ని విధాలుగా ఇవ్వవచ్చో చెప్పండి.

పై నాణాలను పరిశీలించజేయండి. చిల్లర ఎన్ని విధాలుగా ఇవ్వవచ్చో చర్చించజేయండి.

3. కింది నోట్లు, నాణాలను చూడండి. చిల్లర ఇంకెన్ని విధాలుగా ఇవ్వవచ్చో చెప్పండి.





పై నోట్లు, నాణాలను పరిశీలించజేయండి. చిల్లర ఎన్ని విధాలుగా ఇవ్వవచ్చో చర్చించజేయండి.



అభ్యాస కృత్యాలు

1. కింది నాణాలు చూడండి. మొత్తం విలువ ఎంతో రాయండి.




(అ)  +  = రూపాయలు.


(ఆ)  +  = రూపాయలు.


(ఇ)  +  = రూపాయలు.


(ఈ)  +  = రూపాయలు.

2. వస్తువుల ధరలు చూడండి. ధరలకు సరిపోయే విధంగా నాణాలు విలువ రాయండి.

ఉదా:  =  + 
6 రు.

(అ)  = + +
8 రు.

(ఆ)  = + +
9 రు.

(ఇ)  = +
10 రు.



పై అభ్యాస కృత్యాలు పిల్లలు సొంతంగా చేయడానికి సూచనలు అవగాహనపరచండి.