

13 20 నుండి 100 వరకు సంఖ్యలు








కింది బొమ్మలలో కట్టలు, విడిపుల్లలు తెక్కించండి. సంఖ్యను '○' లో రాయండి. పదులు, ఒకట్లు ఎన్నో తెల్పండి.

 $20 + 1 = 21$	<p>పదులు ఒకట్లు</p> <p>2 1</p>
 $20 + 2 = \bigcirc$	<p>పదులు ఒకట్లు</p> <p><input type="text"/> <input type="text"/></p>
 $20 + 3 = \bigcirc$	<p>పదులు ఒకట్లు</p> <p><input type="text"/> <input type="text"/></p>
 $20 + 4 = \bigcirc$	<p>పదులు ఒకట్లు</p> <p><input type="text"/> <input type="text"/></p>
 $20 + 5 = \bigcirc$	<p>పదులు ఒకట్లు</p> <p><input type="text"/> <input type="text"/></p>






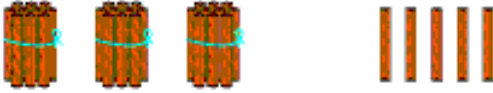
పై పుల్లలు, కట్టలను పరిశీలించజేయండి. పదులు, ఒకట్లలో తెక్కింపజేస్తూ సంఖ్యలను 21 నుండి 25 వరకు రాయించండి. వాటిని పదులు ఒకట్లలో రాయమనండి.

కింది బొమ్మలలో కట్టలు, విడిపుల్లలు లెక్కించండి. సంఖ్యను '○' లో రాయండి. పదులు, ఒకట్లు ఎన్నో తెల్పండి.

 $20 + 6 = 26$	<p>పదులు ఒకట్లు</p> <p>2 6</p>
 $20 + 7 = \bigcirc$	<p>పదులు ఒకట్లు</p> <p><input type="text"/> <input type="text"/></p>
 $20 + 8 = \bigcirc$	<p>పదులు ఒకట్లు</p> <p><input type="text"/> <input type="text"/></p>
 $20 + 9 = \bigcirc$	<p>పదులు ఒకట్లు</p> <p><input type="text"/> <input type="text"/></p>
 $20 + 10 = \bigcirc$	<p>పదులు ఒకట్లు</p> <p><input type="text"/> <input type="text"/></p>






పై పుల్లలు, కట్టలను పరిశీలించజేయండి. పదులు, ఒకట్లలో లెక్కింపజేస్తూ సంఖ్యలను 26 నుండి 30 వరకు రాయించండి. వాటిని పదులు ఒకట్లలో రాయమనండి.

కింది బొమ్మలలో కట్టలు, విడిపుల్లలు తెక్కించండి. సంఖ్యను '○' లో రాయండి. పదులు, ఒకట్లు ఎన్నో తెల్పండి.

 <div style="display: flex; align-items: center; justify-content: center;"> <div style="border: 1px solid black; padding: 5px; margin-right: 10px;">30</div> + <div style="border: 1px solid black; padding: 5px; margin-right: 10px;">1</div> = <div style="border: 1px solid black; border-radius: 50%; padding: 5px; margin-right: 10px;">31</div> </div>	<p>పదులు ఒకట్లు</p> <div style="display: flex; justify-content: space-around; width: 100%;"> <div style="border: 1px solid black; padding: 5px;">3</div> <div style="border: 1px solid black; padding: 5px;">1</div> </div>
 <div style="display: flex; align-items: center; justify-content: center;"> <div style="border: 1px solid black; padding: 5px; margin-right: 10px;">30</div> + <div style="border: 1px solid black; padding: 5px; margin-right: 10px;">2</div> = <div style="border: 1px solid black; border-radius: 50%; padding: 5px; margin-right: 10px;">○</div> </div>	<p>పదులు ఒకట్లు</p> <div style="display: flex; justify-content: space-around; width: 100%;"> <div style="border: 1px solid black; width: 40px; height: 20px;"></div> <div style="border: 1px solid black; width: 40px; height: 20px;"></div> </div>
 <div style="display: flex; align-items: center; justify-content: center;"> <div style="border: 1px solid black; padding: 5px; margin-right: 10px;">30</div> + <div style="border: 1px solid black; padding: 5px; margin-right: 10px;">3</div> = <div style="border: 1px solid black; border-radius: 50%; padding: 5px; margin-right: 10px;">○</div> </div>	<p>పదులు ఒకట్లు</p> <div style="display: flex; justify-content: space-around; width: 100%;"> <div style="border: 1px solid black; width: 40px; height: 20px;"></div> <div style="border: 1px solid black; width: 40px; height: 20px;"></div> </div>
 <div style="display: flex; align-items: center; justify-content: center;"> <div style="border: 1px solid black; padding: 5px; margin-right: 10px;">30</div> + <div style="border: 1px solid black; padding: 5px; margin-right: 10px;">4</div> = <div style="border: 1px solid black; border-radius: 50%; padding: 5px; margin-right: 10px;">○</div> </div>	<p>పదులు ఒకట్లు</p> <div style="display: flex; justify-content: space-around; width: 100%;"> <div style="border: 1px solid black; width: 40px; height: 20px;"></div> <div style="border: 1px solid black; width: 40px; height: 20px;"></div> </div>
 <div style="display: flex; align-items: center; justify-content: center;"> <div style="border: 1px solid black; padding: 5px; margin-right: 10px;">30</div> + <div style="border: 1px solid black; padding: 5px; margin-right: 10px;">5</div> = <div style="border: 1px solid black; border-radius: 50%; padding: 5px; margin-right: 10px;">○</div> </div>	<p>పదులు ఒకట్లు</p> <div style="display: flex; justify-content: space-around; width: 100%;"> <div style="border: 1px solid black; width: 40px; height: 20px;"></div> <div style="border: 1px solid black; width: 40px; height: 20px;"></div> </div>

పై పుల్లలు, కట్టలను పరిశీలించజేయండి. పదులు, ఒకట్లలో తెక్కింపజేస్తూ సంఖ్యలను 31 నుండి 35 వరకు రాయించండి. వాటిని పదులు ఒకట్లలో రాయమనండి.

కింది బొమ్మలలో కట్టలు, విడిపుల్లలు లెక్కించండి. సంఖ్యను '○' లో రాయండి. పదులు, ఒకట్లు ఎన్నో తెల్పండి.

 $30 + 6 = \bigcirc$	<p>పదులు ఒకట్లు</p> <p><input type="text"/> <input type="text"/></p>
 $30 + 7 = \bigcirc$	<p>పదులు ఒకట్లు</p> <p><input type="text"/> <input type="text"/></p>
 $30 + 8 = \bigcirc$	<p>పదులు ఒకట్లు</p> <p><input type="text"/> <input type="text"/></p>
 $30 + 9 = \bigcirc$	<p>పదులు ఒకట్లు</p> <p><input type="text"/> <input type="text"/></p>
 $30 + 10 = \bigcirc$	<p>పదులు ఒకట్లు</p> <p><input type="text"/> <input type="text"/></p>




పై పుల్లలు, కట్టలను పరిశీలించజేయండి. పదులు, ఒకట్లలో లెక్కింపజేస్తూ సంఖ్యలను 36 నుండి 40 వరకు రాయించండి. వాటిని పదులు ఒకట్లలో రాయమనండి.

కింది బొమ్మలలో కట్టలు, విడిపుల్లలు లెక్కించండి. సంఖ్యను '○' లో రాయండి. పదులు, ఒకట్లు ఎన్నో తెల్పండి.

 <div style="display: flex; align-items: center; justify-content: center;"> <div style="border: 1px solid black; padding: 2px 10px; margin-right: 10px;">40</div> + <div style="border: 1px solid black; padding: 2px 10px; margin-right: 10px;">1</div> = <div style="border: 1px solid black; border-radius: 50%; width: 30px; height: 30px; display: flex; align-items: center; justify-content: center;">○</div> </div>	<p>పదులు ఒకట్లు</p> <div style="display: flex; justify-content: space-around; width: 100%;"> <div style="border: 1px solid black; width: 40px; height: 30px;"></div> <div style="border: 1px solid black; width: 40px; height: 30px;"></div> </div>
 <div style="display: flex; align-items: center; justify-content: center;"> <div style="border: 1px solid black; padding: 2px 10px; margin-right: 10px;">40</div> + <div style="border: 1px solid black; padding: 2px 10px; margin-right: 10px;">2</div> = <div style="border: 1px solid black; border-radius: 50%; width: 30px; height: 30px; display: flex; align-items: center; justify-content: center;">○</div> </div>	<p>పదులు ఒకట్లు</p> <div style="display: flex; justify-content: space-around; width: 100%;"> <div style="border: 1px solid black; width: 40px; height: 30px;"></div> <div style="border: 1px solid black; width: 40px; height: 30px;"></div> </div>
 <div style="display: flex; align-items: center; justify-content: center;"> <div style="border: 1px solid black; padding: 2px 10px; margin-right: 10px;">40</div> + <div style="border: 1px solid black; padding: 2px 10px; margin-right: 10px;">3</div> = <div style="border: 1px solid black; border-radius: 50%; width: 30px; height: 30px; display: flex; align-items: center; justify-content: center;">○</div> </div>	<p>పదులు ఒకట్లు</p> <div style="display: flex; justify-content: space-around; width: 100%;"> <div style="border: 1px solid black; width: 40px; height: 30px;"></div> <div style="border: 1px solid black; width: 40px; height: 30px;"></div> </div>
 <div style="display: flex; align-items: center; justify-content: center;"> <div style="border: 1px solid black; padding: 2px 10px; margin-right: 10px;">40</div> + <div style="border: 1px solid black; padding: 2px 10px; margin-right: 10px;">4</div> = <div style="border: 1px solid black; border-radius: 50%; width: 30px; height: 30px; display: flex; align-items: center; justify-content: center;">○</div> </div>	<p>పదులు ఒకట్లు</p> <div style="display: flex; justify-content: space-around; width: 100%;"> <div style="border: 1px solid black; width: 40px; height: 30px;"></div> <div style="border: 1px solid black; width: 40px; height: 30px;"></div> </div>
 <div style="display: flex; align-items: center; justify-content: center;"> <div style="border: 1px solid black; padding: 2px 10px; margin-right: 10px;">40</div> + <div style="border: 1px solid black; padding: 2px 10px; margin-right: 10px;">5</div> = <div style="border: 1px solid black; border-radius: 50%; width: 30px; height: 30px; display: flex; align-items: center; justify-content: center;">○</div> </div>	<p>పదులు ఒకట్లు</p> <div style="display: flex; justify-content: space-around; width: 100%;"> <div style="border: 1px solid black; width: 40px; height: 30px;"></div> <div style="border: 1px solid black; width: 40px; height: 30px;"></div> </div>






పై పుల్లలు, కట్టలను పరిశీలించజేయండి. పదులు, ఒకట్లలో లెక్కింపజేస్తూ సంఖ్యలను 41 నుండి 45 వరకు రాయించండి. వాటిని పదులు ఒకట్లలో రాయమనండి.

కింది బొమ్మలలో కట్టలు, విడిపుల్లలు లెక్కించండి. సంఖ్యను '○' లో రాయండి. పదులు, ఒకట్లు ఎన్నో తెల్పండి.

 $40 + 6 = \bigcirc$	<p>పదులు ఒకట్లు</p> <p><input type="text"/> <input type="text"/></p>
 $40 + 7 = \bigcirc$	<p>పదులు ఒకట్లు</p> <p><input type="text"/> <input type="text"/></p>
 $40 + 8 = \bigcirc$	<p>పదులు ఒకట్లు</p> <p><input type="text"/> <input type="text"/></p>
 $40 + 9 = \bigcirc$	<p>పదులు ఒకట్లు</p> <p><input type="text"/> <input type="text"/></p>
 $40 + 10 = \bigcirc$	<p>పదులు ఒకట్లు</p> <p><input type="text"/> <input type="text"/></p>

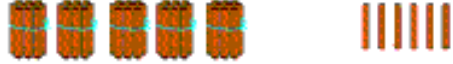




 పై పుల్లలు, కట్టలను పరిశీలింపజేయండి. పదులు, ఒకట్లలో లెక్కింపజేస్తూ సంఖ్యలను 46 నుండి 50 వరకు రాయించండి. వాటిని పదులు ఒకట్లలో రాయమనండి.

కింది బొమ్మలలో కట్టలు, విడిపుల్లలు లెక్కించండి. సంఖ్యను '○' లో రాయండి. పదులు, ఒకట్లు ఎన్నో తెల్పండి.

 <div style="display: flex; align-items: center; justify-content: center;"> <div style="border: 1px solid black; padding: 5px; margin-right: 10px;">50</div> + <div style="border: 1px solid black; padding: 5px; margin-right: 10px;">1</div> = <div style="border: 1px solid black; border-radius: 50%; width: 30px; height: 30px; display: flex; align-items: center; justify-content: center;">○</div> </div>	<p>పదులు ఒకట్లు</p> <div style="display: flex; justify-content: space-around; width: 100%;"> <div style="border: 1px solid black; width: 40px; height: 30px;"></div> <div style="border: 1px solid black; width: 40px; height: 30px;"></div> </div>
 <div style="display: flex; align-items: center; justify-content: center;"> <div style="border: 1px solid black; padding: 5px; margin-right: 10px;">50</div> + <div style="border: 1px solid black; padding: 5px; margin-right: 10px;">2</div> = <div style="border: 1px solid black; border-radius: 50%; width: 30px; height: 30px; display: flex; align-items: center; justify-content: center;">○</div> </div>	<p>పదులు ఒకట్లు</p> <div style="display: flex; justify-content: space-around; width: 100%;"> <div style="border: 1px solid black; width: 40px; height: 30px;"></div> <div style="border: 1px solid black; width: 40px; height: 30px;"></div> </div>
 <div style="display: flex; align-items: center; justify-content: center;"> <div style="border: 1px solid black; padding: 5px; margin-right: 10px;">50</div> + <div style="border: 1px solid black; padding: 5px; margin-right: 10px;">3</div> = <div style="border: 1px solid black; border-radius: 50%; width: 30px; height: 30px; display: flex; align-items: center; justify-content: center;">○</div> </div>	<p>పదులు ఒకట్లు</p> <div style="display: flex; justify-content: space-around; width: 100%;"> <div style="border: 1px solid black; width: 40px; height: 30px;"></div> <div style="border: 1px solid black; width: 40px; height: 30px;"></div> </div>
 <div style="display: flex; align-items: center; justify-content: center;"> <div style="border: 1px solid black; padding: 5px; margin-right: 10px;">50</div> + <div style="border: 1px solid black; padding: 5px; margin-right: 10px;">4</div> = <div style="border: 1px solid black; border-radius: 50%; width: 30px; height: 30px; display: flex; align-items: center; justify-content: center;">○</div> </div>	<p>పదులు ఒకట్లు</p> <div style="display: flex; justify-content: space-around; width: 100%;"> <div style="border: 1px solid black; width: 40px; height: 30px;"></div> <div style="border: 1px solid black; width: 40px; height: 30px;"></div> </div>
 <div style="display: flex; align-items: center; justify-content: center;"> <div style="border: 1px solid black; padding: 5px; margin-right: 10px;">50</div> + <div style="border: 1px solid black; padding: 5px; margin-right: 10px;">5</div> = <div style="border: 1px solid black; border-radius: 50%; width: 30px; height: 30px; display: flex; align-items: center; justify-content: center;">○</div> </div>	<p>పదులు ఒకట్లు</p> <div style="display: flex; justify-content: space-around; width: 100%;"> <div style="border: 1px solid black; width: 40px; height: 30px;"></div> <div style="border: 1px solid black; width: 40px; height: 30px;"></div> </div>






పై పుల్లలు, కట్టలను పరిశీలించజేయండి. పదులు, ఒకట్లలో లెక్కింపజేస్తూ సంఖ్యలను 51 నుండి 55 వరకు రాయించండి. వాటిని పదులు ఒకట్లలో రాయమనండి.

కింది బొమ్మలలో కట్టలు, విడిపుల్లలు లెక్కించండి. సంఖ్యను '○' లో రాయండి. పదులు, ఒకట్లు ఎన్నో తెల్పండి.

 <div style="display: flex; align-items: center; justify-content: center;"> <div style="border: 1px solid black; padding: 2px 10px; margin-right: 10px;">50</div> + <div style="border: 1px solid black; padding: 2px 10px; margin-right: 10px;">6</div> = <div style="border: 1px solid black; border-radius: 50%; width: 30px; height: 30px; display: flex; align-items: center; justify-content: center;">○</div> </div>	<p>పదులు ఒకట్లు</p> <div style="display: flex; justify-content: space-around; width: 100%;"> <div style="border: 1px solid black; width: 40px; height: 30px;"></div> <div style="border: 1px solid black; width: 40px; height: 30px;"></div> </div>
 <div style="display: flex; align-items: center; justify-content: center;"> <div style="border: 1px solid black; padding: 2px 10px; margin-right: 10px;">50</div> + <div style="border: 1px solid black; padding: 2px 10px; margin-right: 10px;">7</div> = <div style="border: 1px solid black; border-radius: 50%; width: 30px; height: 30px; display: flex; align-items: center; justify-content: center;">○</div> </div>	<p>పదులు ఒకట్లు</p> <div style="display: flex; justify-content: space-around; width: 100%;"> <div style="border: 1px solid black; width: 40px; height: 30px;"></div> <div style="border: 1px solid black; width: 40px; height: 30px;"></div> </div>
 <div style="display: flex; align-items: center; justify-content: center;"> <div style="border: 1px solid black; padding: 2px 10px; margin-right: 10px;">50</div> + <div style="border: 1px solid black; padding: 2px 10px; margin-right: 10px;">8</div> = <div style="border: 1px solid black; border-radius: 50%; width: 30px; height: 30px; display: flex; align-items: center; justify-content: center;">○</div> </div>	<p>పదులు ఒకట్లు</p> <div style="display: flex; justify-content: space-around; width: 100%;"> <div style="border: 1px solid black; width: 40px; height: 30px;"></div> <div style="border: 1px solid black; width: 40px; height: 30px;"></div> </div>
 <div style="display: flex; align-items: center; justify-content: center;"> <div style="border: 1px solid black; padding: 2px 10px; margin-right: 10px;">50</div> + <div style="border: 1px solid black; padding: 2px 10px; margin-right: 10px;">9</div> = <div style="border: 1px solid black; border-radius: 50%; width: 30px; height: 30px; display: flex; align-items: center; justify-content: center;">○</div> </div>	<p>పదులు ఒకట్లు</p> <div style="display: flex; justify-content: space-around; width: 100%;"> <div style="border: 1px solid black; width: 40px; height: 30px;"></div> <div style="border: 1px solid black; width: 40px; height: 30px;"></div> </div>
 <div style="display: flex; align-items: center; justify-content: center;"> <div style="border: 1px solid black; padding: 2px 10px; margin-right: 10px;">50</div> + <div style="border: 1px solid black; padding: 2px 10px; margin-right: 10px;">10</div> = <div style="border: 1px solid black; border-radius: 50%; width: 30px; height: 30px; display: flex; align-items: center; justify-content: center;">○</div> </div>	<p>పదులు ఒకట్లు</p> <div style="display: flex; justify-content: space-around; width: 100%;"> <div style="border: 1px solid black; width: 40px; height: 30px;"></div> <div style="border: 1px solid black; width: 40px; height: 30px;"></div> </div>

 పై పుల్లలు, కట్టలను పరిశీలించజేయండి. పదులు, ఒకట్లలో లెక్కింపజేస్తూ సంఖ్యలను 56 నుండి 60 వరకు రాయించండి. వాటిని పదులు ఒకట్లలో రాయమనండి.






కింది బొమ్మలలో కట్టలు, విడిపుల్లలు లెక్కించండి. సంఖ్యను '○' లో రాయండి. పదులు, ఒకట్లు ఎన్నో తెల్పండి.

 <div style="display: flex; align-items: center; justify-content: center;"> <div style="border: 1px solid black; padding: 2px 10px; margin-right: 10px;">60</div> + <div style="border: 1px solid black; padding: 2px 10px; margin-right: 10px;">1</div> = <div style="border: 1px solid black; border-radius: 50%; width: 30px; height: 30px; margin-right: 10px;"></div> <div style="border: 1px solid black; padding: 2px 10px; margin-right: 10px; width: 30px; height: 30px;"></div> <div style="border: 1px solid black; padding: 2px 10px; width: 30px; height: 30px;"></div> </div>	<p>పదులు ఒకట్లు</p> <div style="display: flex; justify-content: space-around; width: 100%;"> <div style="border: 1px solid black; width: 30px; height: 30px;"></div> <div style="border: 1px solid black; width: 30px; height: 30px;"></div> </div>
 <div style="display: flex; align-items: center; justify-content: center;"> <div style="border: 1px solid black; padding: 2px 10px; margin-right: 10px;">60</div> + <div style="border: 1px solid black; padding: 2px 10px; margin-right: 10px;">2</div> = <div style="border: 1px solid black; border-radius: 50%; width: 30px; height: 30px; margin-right: 10px;"></div> <div style="border: 1px solid black; padding: 2px 10px; margin-right: 10px; width: 30px; height: 30px;"></div> <div style="border: 1px solid black; padding: 2px 10px; width: 30px; height: 30px;"></div> </div>	<p>పదులు ఒకట్లు</p> <div style="display: flex; justify-content: space-around; width: 100%;"> <div style="border: 1px solid black; width: 30px; height: 30px;"></div> <div style="border: 1px solid black; width: 30px; height: 30px;"></div> </div>
 <div style="display: flex; align-items: center; justify-content: center;"> <div style="border: 1px solid black; padding: 2px 10px; margin-right: 10px;">60</div> + <div style="border: 1px solid black; padding: 2px 10px; margin-right: 10px;">3</div> = <div style="border: 1px solid black; border-radius: 50%; width: 30px; height: 30px; margin-right: 10px;"></div> <div style="border: 1px solid black; padding: 2px 10px; margin-right: 10px; width: 30px; height: 30px;"></div> <div style="border: 1px solid black; padding: 2px 10px; width: 30px; height: 30px;"></div> </div>	<p>పదులు ఒకట్లు</p> <div style="display: flex; justify-content: space-around; width: 100%;"> <div style="border: 1px solid black; width: 30px; height: 30px;"></div> <div style="border: 1px solid black; width: 30px; height: 30px;"></div> </div>
 <div style="display: flex; align-items: center; justify-content: center;"> <div style="border: 1px solid black; padding: 2px 10px; margin-right: 10px;">60</div> + <div style="border: 1px solid black; padding: 2px 10px; margin-right: 10px;">4</div> = <div style="border: 1px solid black; border-radius: 50%; width: 30px; height: 30px; margin-right: 10px;"></div> <div style="border: 1px solid black; padding: 2px 10px; margin-right: 10px; width: 30px; height: 30px;"></div> <div style="border: 1px solid black; padding: 2px 10px; width: 30px; height: 30px;"></div> </div>	<p>పదులు ఒకట్లు</p> <div style="display: flex; justify-content: space-around; width: 100%;"> <div style="border: 1px solid black; width: 30px; height: 30px;"></div> <div style="border: 1px solid black; width: 30px; height: 30px;"></div> </div>
 <div style="display: flex; align-items: center; justify-content: center;"> <div style="border: 1px solid black; padding: 2px 10px; margin-right: 10px;">60</div> + <div style="border: 1px solid black; padding: 2px 10px; margin-right: 10px;">5</div> = <div style="border: 1px solid black; border-radius: 50%; width: 30px; height: 30px; margin-right: 10px;"></div> <div style="border: 1px solid black; padding: 2px 10px; margin-right: 10px; width: 30px; height: 30px;"></div> <div style="border: 1px solid black; padding: 2px 10px; width: 30px; height: 30px;"></div> </div>	<p>పదులు ఒకట్లు</p> <div style="display: flex; justify-content: space-around; width: 100%;"> <div style="border: 1px solid black; width: 30px; height: 30px;"></div> <div style="border: 1px solid black; width: 30px; height: 30px;"></div> </div>








పై పుల్లలు, కట్టలను పరిశీలించజేయండి. పదులు, ఒకట్లలో లెక్కింపజేస్తూ సంఖ్యలను 61 నుండి 65 వరకు రాయించండి. వాటిని పదులు ఒకట్లలో రాయమనండి.

కింది బొమ్మలలో కట్టలు, విడిపుల్లలు లెక్కించండి. సంఖ్యను '○' లో రాయండి. పదులు, ఒకట్లు ఎన్నో తెల్పండి.

 <div style="display: flex; align-items: center; justify-content: center;"> <div style="border: 1px solid black; padding: 2px 10px; margin-right: 10px;">60</div> + <div style="border: 1px solid black; padding: 2px 10px; margin-right: 10px;">6</div> = <div style="border: 1px solid black; border-radius: 50%; width: 30px; height: 30px; display: flex; align-items: center; justify-content: center;">○</div> </div>	<p>పదులు ఒకట్లు</p> <div style="display: flex; justify-content: space-around; width: 100%;"> <div style="border: 1px solid black; width: 30px; height: 30px;"></div> <div style="border: 1px solid black; width: 30px; height: 30px;"></div> </div>
 <div style="display: flex; align-items: center; justify-content: center;"> <div style="border: 1px solid black; padding: 2px 10px; margin-right: 10px;">60</div> + <div style="border: 1px solid black; padding: 2px 10px; margin-right: 10px;">7</div> = <div style="border: 1px solid black; border-radius: 50%; width: 30px; height: 30px; display: flex; align-items: center; justify-content: center;">○</div> </div>	<p>పదులు ఒకట్లు</p> <div style="display: flex; justify-content: space-around; width: 100%;"> <div style="border: 1px solid black; width: 30px; height: 30px;"></div> <div style="border: 1px solid black; width: 30px; height: 30px;"></div> </div>
 <div style="display: flex; align-items: center; justify-content: center;"> <div style="border: 1px solid black; padding: 2px 10px; margin-right: 10px;">60</div> + <div style="border: 1px solid black; padding: 2px 10px; margin-right: 10px;">8</div> = <div style="border: 1px solid black; border-radius: 50%; width: 30px; height: 30px; display: flex; align-items: center; justify-content: center;">○</div> </div>	<p>పదులు ఒకట్లు</p> <div style="display: flex; justify-content: space-around; width: 100%;"> <div style="border: 1px solid black; width: 30px; height: 30px;"></div> <div style="border: 1px solid black; width: 30px; height: 30px;"></div> </div>
 <div style="display: flex; align-items: center; justify-content: center;"> <div style="border: 1px solid black; padding: 2px 10px; margin-right: 10px;">60</div> + <div style="border: 1px solid black; padding: 2px 10px; margin-right: 10px;">9</div> = <div style="border: 1px solid black; border-radius: 50%; width: 30px; height: 30px; display: flex; align-items: center; justify-content: center;">○</div> </div>	<p>పదులు ఒకట్లు</p> <div style="display: flex; justify-content: space-around; width: 100%;"> <div style="border: 1px solid black; width: 30px; height: 30px;"></div> <div style="border: 1px solid black; width: 30px; height: 30px;"></div> </div>
 <div style="display: flex; align-items: center; justify-content: center;"> <div style="border: 1px solid black; padding: 2px 10px; margin-right: 10px;">60</div> + <div style="border: 1px solid black; padding: 2px 10px; margin-right: 10px;">10</div> = <div style="border: 1px solid black; border-radius: 50%; width: 30px; height: 30px; display: flex; align-items: center; justify-content: center;">○</div> </div>	<p>పదులు ఒకట్లు</p> <div style="display: flex; justify-content: space-around; width: 100%;"> <div style="border: 1px solid black; width: 30px; height: 30px;"></div> <div style="border: 1px solid black; width: 30px; height: 30px;"></div> </div>

పై పుల్లలు, కట్టలను పరిశీలించజేయండి. పదులు, ఒకట్లలో లెక్కింపజేస్తూ సంఖ్యలను 66 నుండి 70 వరకు రాయించండి. వాటిని పదులు ఒకట్లలో రాయమనండి.






కింది బొమ్మలలో కట్టలు, విడిపుల్లలు లెక్కించండి. సంఖ్యను '○' లో రాయండి. పదులు, ఒకట్లు ఎన్నో తెల్పండి.

 <div style="display: flex; align-items: center; justify-content: center;"> <div style="border: 1px solid black; padding: 2px 10px; margin-right: 10px;">70</div> + <div style="border: 1px solid black; padding: 2px 10px; margin-right: 10px;">1</div> = <div style="border: 1px solid black; border-radius: 50%; width: 30px; height: 30px; margin-right: 10px;"></div> </div>	<p>పదులు ఒకట్లు</p> <div style="display: flex; justify-content: space-around; width: 100%;"> <div style="border: 1px solid black; width: 40px; height: 30px;"></div> <div style="border: 1px solid black; width: 40px; height: 30px;"></div> </div>
 <div style="display: flex; align-items: center; justify-content: center;"> <div style="border: 1px solid black; padding: 2px 10px; margin-right: 10px;">70</div> + <div style="border: 1px solid black; padding: 2px 10px; margin-right: 10px;">2</div> = <div style="border: 1px solid black; border-radius: 50%; width: 30px; height: 30px; margin-right: 10px;"></div> </div>	<p>పదులు ఒకట్లు</p> <div style="display: flex; justify-content: space-around; width: 100%;"> <div style="border: 1px solid black; width: 40px; height: 30px;"></div> <div style="border: 1px solid black; width: 40px; height: 30px;"></div> </div>
 <div style="display: flex; align-items: center; justify-content: center;"> <div style="border: 1px solid black; padding: 2px 10px; margin-right: 10px;">70</div> + <div style="border: 1px solid black; padding: 2px 10px; margin-right: 10px;">3</div> = <div style="border: 1px solid black; border-radius: 50%; width: 30px; height: 30px; margin-right: 10px;"></div> </div>	<p>పదులు ఒకట్లు</p> <div style="display: flex; justify-content: space-around; width: 100%;"> <div style="border: 1px solid black; width: 40px; height: 30px;"></div> <div style="border: 1px solid black; width: 40px; height: 30px;"></div> </div>
 <div style="display: flex; align-items: center; justify-content: center;"> <div style="border: 1px solid black; padding: 2px 10px; margin-right: 10px;">70</div> + <div style="border: 1px solid black; padding: 2px 10px; margin-right: 10px;">4</div> = <div style="border: 1px solid black; border-radius: 50%; width: 30px; height: 30px; margin-right: 10px;"></div> </div>	<p>పదులు ఒకట్లు</p> <div style="display: flex; justify-content: space-around; width: 100%;"> <div style="border: 1px solid black; width: 40px; height: 30px;"></div> <div style="border: 1px solid black; width: 40px; height: 30px;"></div> </div>
 <div style="display: flex; align-items: center; justify-content: center;"> <div style="border: 1px solid black; padding: 2px 10px; margin-right: 10px;">70</div> + <div style="border: 1px solid black; padding: 2px 10px; margin-right: 10px;">5</div> = <div style="border: 1px solid black; border-radius: 50%; width: 30px; height: 30px; margin-right: 10px;"></div> </div>	<p>పదులు ఒకట్లు</p> <div style="display: flex; justify-content: space-around; width: 100%;"> <div style="border: 1px solid black; width: 40px; height: 30px;"></div> <div style="border: 1px solid black; width: 40px; height: 30px;"></div> </div>








పై పుల్లలు, కట్టలను పరిశీలించజేయండి. పదులు, ఒకట్లలో లెక్కింపజేస్తూ సంఖ్యలను 71 నుండి 75 వరకు రాయించండి. వాటిని పదులు ఒకట్లలో రాయమనండి.

కింది బొమ్మలలో కట్టలు, విడిపుల్లలు లెక్కించండి. సంఖ్యను '○' లో రాయండి. పదులు, ఒకట్లు ఎన్నో తెల్పండి.

 $70 + 6 = \bigcirc$	<p>పదులు ఒకట్లు</p> <p><input type="text"/> <input type="text"/></p>
 $70 + 7 = \bigcirc$	<p>పదులు ఒకట్లు</p> <p><input type="text"/> <input type="text"/></p>
 $70 + 8 = \bigcirc$	<p>పదులు ఒకట్లు</p> <p><input type="text"/> <input type="text"/></p>
 $70 + 9 = \bigcirc$	<p>పదులు ఒకట్లు</p> <p><input type="text"/> <input type="text"/></p>
 $70 + 10 = \bigcirc$	<p>పదులు ఒకట్లు</p> <p><input type="text"/> <input type="text"/></p>

పై పుల్లలు, కట్టలను పరిశీలింపజేయండి. పదులు, ఒకట్లలో లెక్కింపజేస్తూ సంఖ్యలను 76 నుండి 80 వరకు రాయించండి. వాటిని పదులు ఒకట్లలో రాయమనండి.






కింది బొమ్మలలో కట్టలు, విడిపుల్లలు లెక్కించండి. సంఖ్యను '○' లో రాయండి. పదులు, ఒకట్లు ఎన్నో తెల్పండి.

 <div style="display: flex; align-items: center; justify-content: center;"> <div style="border: 1px solid black; padding: 2px 10px; margin-right: 10px;">80</div> <div style="margin-right: 10px;">+</div> <div style="border: 1px solid black; padding: 2px 10px; margin-right: 10px;">1</div> <div style="margin-right: 10px;">=</div> <div style="border: 1px solid black; border-radius: 50%; width: 30px; height: 30px; display: flex; align-items: center; justify-content: center;">○</div> </div>	<p>పదులు ఒకట్లు</p> <div style="display: flex; justify-content: space-around; width: 100%;"> <div style="border: 1px solid black; width: 40px; height: 30px;"></div> <div style="border: 1px solid black; width: 40px; height: 30px;"></div> </div>
 <div style="display: flex; align-items: center; justify-content: center;"> <div style="border: 1px solid black; padding: 2px 10px; margin-right: 10px;">80</div> <div style="margin-right: 10px;">+</div> <div style="border: 1px solid black; padding: 2px 10px; margin-right: 10px;">2</div> <div style="margin-right: 10px;">=</div> <div style="border: 1px solid black; border-radius: 50%; width: 30px; height: 30px; display: flex; align-items: center; justify-content: center;">○</div> </div>	<p>పదులు ఒకట్లు</p> <div style="display: flex; justify-content: space-around; width: 100%;"> <div style="border: 1px solid black; width: 40px; height: 30px;"></div> <div style="border: 1px solid black; width: 40px; height: 30px;"></div> </div>
 <div style="display: flex; align-items: center; justify-content: center;"> <div style="border: 1px solid black; padding: 2px 10px; margin-right: 10px;">80</div> <div style="margin-right: 10px;">+</div> <div style="border: 1px solid black; padding: 2px 10px; margin-right: 10px;">3</div> <div style="margin-right: 10px;">=</div> <div style="border: 1px solid black; border-radius: 50%; width: 30px; height: 30px; display: flex; align-items: center; justify-content: center;">○</div> </div>	<p>పదులు ఒకట్లు</p> <div style="display: flex; justify-content: space-around; width: 100%;"> <div style="border: 1px solid black; width: 40px; height: 30px;"></div> <div style="border: 1px solid black; width: 40px; height: 30px;"></div> </div>
 <div style="display: flex; align-items: center; justify-content: center;"> <div style="border: 1px solid black; padding: 2px 10px; margin-right: 10px;">80</div> <div style="margin-right: 10px;">+</div> <div style="border: 1px solid black; padding: 2px 10px; margin-right: 10px;">4</div> <div style="margin-right: 10px;">=</div> <div style="border: 1px solid black; border-radius: 50%; width: 30px; height: 30px; display: flex; align-items: center; justify-content: center;">○</div> </div>	<p>పదులు ఒకట్లు</p> <div style="display: flex; justify-content: space-around; width: 100%;"> <div style="border: 1px solid black; width: 40px; height: 30px;"></div> <div style="border: 1px solid black; width: 40px; height: 30px;"></div> </div>
 <div style="display: flex; align-items: center; justify-content: center;"> <div style="border: 1px solid black; padding: 2px 10px; margin-right: 10px;">80</div> <div style="margin-right: 10px;">+</div> <div style="border: 1px solid black; padding: 2px 10px; margin-right: 10px;">5</div> <div style="margin-right: 10px;">=</div> <div style="border: 1px solid black; border-radius: 50%; width: 30px; height: 30px; display: flex; align-items: center; justify-content: center;">○</div> </div>	<p>పదులు ఒకట్లు</p> <div style="display: flex; justify-content: space-around; width: 100%;"> <div style="border: 1px solid black; width: 40px; height: 30px;"></div> <div style="border: 1px solid black; width: 40px; height: 30px;"></div> </div>








పై పుల్లలు, కట్టలను పరిశీలించజేయండి. పదులు, ఒకట్లలో లెక్కింపజేస్తూ సంఖ్యలను 81 నుండి 85 వరకు రాయించండి. వాటిని పదులు ఒకట్లలో రాయమనండి.

కింది బొమ్మలలో కట్టలు, విడిపుల్లలు లెక్కించండి. సంఖ్యను '○' లో రాయండి. పదులు, ఒకట్లు ఎన్నో తెల్పండి.

 $80 + 6 = \bigcirc$	<p>పదులు ఒకట్లు</p> <p><input type="text"/> <input type="text"/></p>
 $80 + 7 = \bigcirc$	<p>పదులు ఒకట్లు</p> <p><input type="text"/> <input type="text"/></p>
 $80 + 8 = \bigcirc$	<p>పదులు ఒకట్లు</p> <p><input type="text"/> <input type="text"/></p>
 $80 + 9 = \bigcirc$	<p>పదులు ఒకట్లు</p> <p><input type="text"/> <input type="text"/></p>
 $80 + 10 = \bigcirc$	<p>పదులు ఒకట్లు</p> <p><input type="text"/> <input type="text"/></p>

పై పుల్లలు, కట్టలను పరిశీలింపజేయండి. పదులు, ఒకట్లలో లెక్కింపజేస్తూ సంఖ్యలను 86 నుండి 90 వరకు రాయించండి. వాటిని పదులు ఒకట్లలో రాయమనండి.






కింది బొమ్మలలో కట్టలు, విడిపుల్లలు లెక్కించండి. సంఖ్యను '○' లో రాయండి. పదులు, ఒకట్లు ఎన్నో తెల్పండి.

 <div style="display: flex; align-items: center; justify-content: center;"> <div style="border: 1px solid black; padding: 5px; margin-right: 10px;">90</div> <div style="margin-right: 10px;">+</div> <div style="border: 1px solid black; padding: 5px; margin-right: 10px;">1</div> <div style="margin-right: 10px;">=</div> <div style="border: 1px solid black; border-radius: 50%; width: 30px; height: 30px; display: flex; align-items: center; justify-content: center;">○</div> </div>	<p>పదులు ఒకట్లు</p> <div style="display: flex; justify-content: space-around; margin-top: 10px;"> <div style="border: 1px solid black; width: 30px; height: 30px;"></div> <div style="border: 1px solid black; width: 30px; height: 30px;"></div> </div>
 <div style="display: flex; align-items: center; justify-content: center;"> <div style="border: 1px solid black; padding: 5px; margin-right: 10px;">90</div> <div style="margin-right: 10px;">+</div> <div style="border: 1px solid black; padding: 5px; margin-right: 10px;">2</div> <div style="margin-right: 10px;">=</div> <div style="border: 1px solid black; border-radius: 50%; width: 30px; height: 30px; display: flex; align-items: center; justify-content: center;">○</div> </div>	<p>పదులు ఒకట్లు</p> <div style="display: flex; justify-content: space-around; margin-top: 10px;"> <div style="border: 1px solid black; width: 30px; height: 30px;"></div> <div style="border: 1px solid black; width: 30px; height: 30px;"></div> </div>
 <div style="display: flex; align-items: center; justify-content: center;"> <div style="border: 1px solid black; padding: 5px; margin-right: 10px;">90</div> <div style="margin-right: 10px;">+</div> <div style="border: 1px solid black; padding: 5px; margin-right: 10px;">3</div> <div style="margin-right: 10px;">=</div> <div style="border: 1px solid black; border-radius: 50%; width: 30px; height: 30px; display: flex; align-items: center; justify-content: center;">○</div> </div>	<p>పదులు ఒకట్లు</p> <div style="display: flex; justify-content: space-around; margin-top: 10px;"> <div style="border: 1px solid black; width: 30px; height: 30px;"></div> <div style="border: 1px solid black; width: 30px; height: 30px;"></div> </div>
 <div style="display: flex; align-items: center; justify-content: center;"> <div style="border: 1px solid black; padding: 5px; margin-right: 10px;">90</div> <div style="margin-right: 10px;">+</div> <div style="border: 1px solid black; padding: 5px; margin-right: 10px;">4</div> <div style="margin-right: 10px;">=</div> <div style="border: 1px solid black; border-radius: 50%; width: 30px; height: 30px; display: flex; align-items: center; justify-content: center;">○</div> </div>	<p>పదులు ఒకట్లు</p> <div style="display: flex; justify-content: space-around; margin-top: 10px;"> <div style="border: 1px solid black; width: 30px; height: 30px;"></div> <div style="border: 1px solid black; width: 30px; height: 30px;"></div> </div>
 <div style="display: flex; align-items: center; justify-content: center;"> <div style="border: 1px solid black; padding: 5px; margin-right: 10px;">90</div> <div style="margin-right: 10px;">+</div> <div style="border: 1px solid black; padding: 5px; margin-right: 10px;">5</div> <div style="margin-right: 10px;">=</div> <div style="border: 1px solid black; border-radius: 50%; width: 30px; height: 30px; display: flex; align-items: center; justify-content: center;">○</div> </div>	<p>పదులు ఒకట్లు</p> <div style="display: flex; justify-content: space-around; margin-top: 10px;"> <div style="border: 1px solid black; width: 30px; height: 30px;"></div> <div style="border: 1px solid black; width: 30px; height: 30px;"></div> </div>



పై పుల్లలు, కట్టలను పరిశీలించజేయండి. పదులు, ఒకట్లలో లెక్కింపజేస్తూ సంఖ్యలను 91 నుండి 95 వరకు రాయించండి. వాటిని పదులు ఒకట్లలో రాయమనండి.

కింది బొమ్మలలో కట్టలు, విడిపుల్లలు లెక్కించండి. సంఖ్యను '○' లో రాయండి. పదులు, ఒకట్లు ఎన్నో తెల్పండి.

 $90 + 6 = \bigcirc$	<p>పదులు ఒకట్లు</p> <p><input type="text"/> <input type="text"/></p>
 $90 + 7 = \bigcirc$	<p>పదులు ఒకట్లు</p> <p><input type="text"/> <input type="text"/></p>
 $90 + 8 = \bigcirc$	<p>పదులు ఒకట్లు</p> <p><input type="text"/> <input type="text"/></p>
 $90 + 9 = \bigcirc$	<p>పదులు ఒకట్లు</p> <p><input type="text"/> <input type="text"/></p>
 $90 + 10 = 100$	<p>పదులు ఒకట్లు</p> <p><input type="text"/> <input type="text"/></p>

పై పుల్లలు, కట్టలను పరిశీలించజేయండి. పదులు, ఒకట్లలో లెక్కింపజేస్తూ సంఖ్యలను 96 నుండి 100 వరకు రాయించండి. వాటిని పదులు ఒకట్లలో రాయమనండి.



అభ్యాసకృత్యాలు

(అ) కింది గణ్లను చూడండి. 1 నుండి 100 వరకు సంఖ్యలలో కొన్ని సంఖ్యలు గణ్లలో ఉన్నాయి. వరుస క్రమంలో మిగతా సంఖ్యలను ఖాళీ గణ్లలో రాయండి.

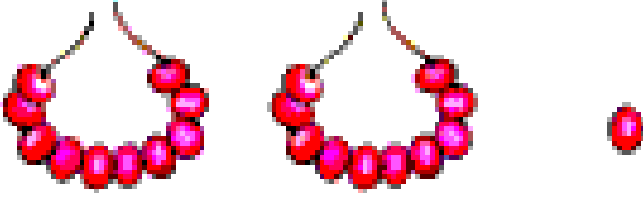

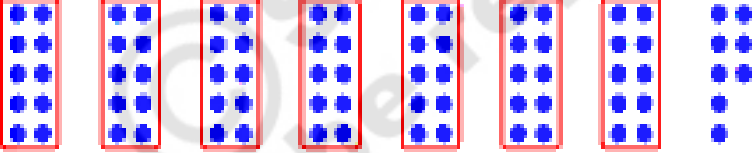
1	2	3	4	5	6	7	8	9	10
11					16				20
			24					29	
	32						38		
				45					50
51						57			
		63			66				
71						77			
			84						90
	92								100



పై గణ్లలో సంఖ్యలను 1 నుండి 100 వరకు వరుసగా రాయడంపై అవగాహన కల్పించండి.

(ఆ) కింది బొమ్మలను లెక్కించండి. సరైన సంఖ్యను '○' తో చుట్టండి.

ఉదా:

	21 ○ 31 41
	66 56 76
	78 68 58

(ఇ) వరుస సంఖ్యలను చూడండి. ఖాళీ గళ్లలో సరైన సంఖ్యలు రాయండి.

41	42	43			46		48
49	50				54		56
70		72		74			
60			63		65		

పై అభ్యాసకృత్యాలను పిల్లలు సొంతంగా చేసేలా సూచనలు అవగాహన కల్పించండి.

(ఈ) ప్రతి వరుసలోని సంఖ్యలను చూడండి. ఖాళీగళ్లలో సరైన సంఖ్యలు రాయండి.

45	46	47	45		47	45	46	
89	90	91	89	90				91
67	68	69	67		69		68	69
31	32	33		32	33	31		

(ఉ) 1 నుండి 20 వరకు సంఖ్యలను అక్షరాలలో రాయండి.

1	ఒకటి	11	పదకొండు
2		12	
3		13	
4		14	
5		15	
6		16	
7		17	
8		18	
9		19	
10		20	ఇరవై

 పై అభ్యాసకృత్యాలను పిల్లలు సొంతంగా చేసేలా సూచనలు అవగాహన కల్పించండి.