

## 11 20 లోపు తీసివేతలు



కింది బొమ్మను చూడండి. ఎన్ని కూల్‌డ్రింక్‌లు ఉన్నాయో చెప్పండి.



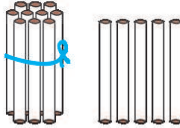
(అ) పై బొమ్మ ఆధారంగా కింది తీసివేతను చేయండి.

మొత్తం కూల్ డ్రింక్‌లు 19



అమ్మినవి 4

మిగిలినవి 15

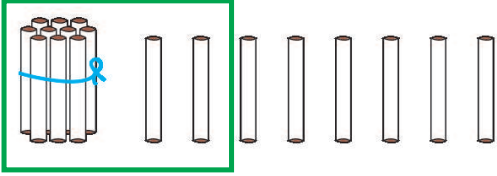






ఒక కూల్‌డ్రింకును ఒక పుల్లగా తీసుకుంటే



పుల్లలు, కట్టల ఆధారంగా రెండంకెల సంఖ్య నుండి ఒక అంకె సంఖ్యను తీసివేయడం అవగాహనపరచండి.

(అ) బొమ్మలను చూడండి. లెక్కించండి. గళ్లలో సరైన సంఖ్యలు రాయండి.

<p>ఉదా:</p> 	$18 - 12 = \boxed{6}$	$\begin{array}{r} 18 \\ - 12 \\ \hline 6 \end{array}$
<p>(అ)</p> 	$14 - 4 = \boxed{\phantom{00}}$	$\begin{array}{r} 14 \\ - 4 \\ \hline \phantom{00} \end{array}$
<p>(ఆ)</p> 	$16 - 14 = \boxed{\phantom{00}}$	$\begin{array}{r} 16 \\ - 14 \\ \hline \phantom{00} \end{array}$
<p>(ఇ)</p> 	$15 - 5 = \boxed{\phantom{00}}$	$\begin{array}{r} 15 \\ - 5 \\ \hline \phantom{00} \end{array}$
<p>(ఈ)</p> 	$17 - 13 = \boxed{\phantom{00}}$	$\begin{array}{r} 17 \\ - 13 \\ \hline \phantom{00} \end{array}$



బొమ్మలను పరిశీలింపజేయండి. సరైన సంఖ్యలను గళ్లలో రాయమనండి. అడ్డువరుస, నిలువువరుస తీసివేతలను అవగాహన కల్పించండి.



## అభ్యాసకృత్యాలు

(అ) కింది తీసివేతలు చేయండి.

ఉదా:  $15 - 13 =$

$15 - 3 =$

$14 - 2 =$

$18 - 10 =$

$16 - 3 =$



$18 - 6 =$

$19 - 15 =$

$12 - 2 =$

$14 - 4 =$

$17 - 15 =$

(ఆ) కింది తీసివేతలు చేయండి.

$17$   
 $- 4$   
-----  
-----

$18$   
 $- 3$   
-----  
-----

$13$   
 $- 2$   
-----  
-----

$17$   
 $- 15$   
-----  
-----

$19$   
 $- 16$   
-----  
-----

$15$   
 $- 11$   
-----  
-----

$11$   
 $- 10$   
-----  
-----

$18$   
 $- 14$   
-----  
-----

$16$   
 $- 5$   
-----  
-----

$15$   
 $- 4$   
-----  
-----

$16$   
 $- 4$   
-----  
-----

$18$   
 $- 10$   
-----  
-----

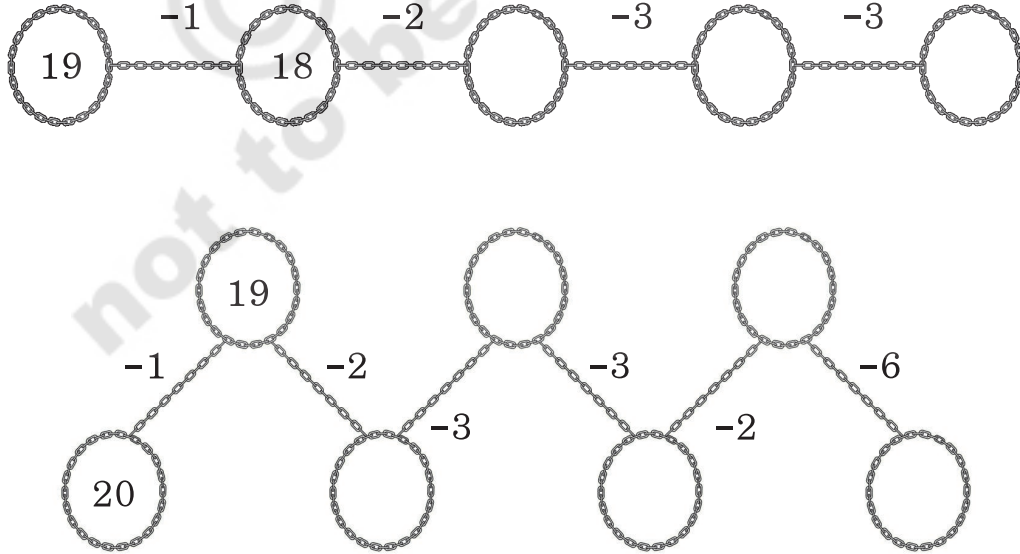


పై అభ్యాసకృత్యాలు పిల్లలు సొంతంగా చేసేలా సూచనలు అవగాహన కల్పించండి.

(ఇ) ప్రతి వరుసలోని తీసివేతలు చేయండి. ఒకదాని జవాబు వేరుగా ఉంది. దానిపై '✓' ను ఉంచండి.

● ● ● ● ● ● ●	ఉదా :	$14 - 2$	$19 - 6$ ✓	$17 - 5$	$13 - 1$
	(అ)	$17 - 3$	$19 - 5$	$18 - 2$	$15 - 1$
	(ఆ)	$15 - 5$	$19 - 9$	$16 - 5$	$18 - 8$
	(ఇ)	$18 - 5$	$16 - 4$	$19 - 6$	$17 - 4$

(ఈ) ఖాళీలో సరైన సంఖ్యలు రాయండి.



పై అభ్యాసకృత్యాలు పిల్లలు సొంతంగా చేసేలా సూచనలు అవగాహన కల్పించండి.