


1. కింది చిత్రాన్ని చూడండి. ఇచ్చిన ప్రశ్నలకు జవాబులు రాయండి.



(అ) ఎంత మంది బాలురు ఉన్నారు? _____

(ఆ) ఎన్ని తరగతి గదులున్నాయి? _____

(ఇ) మొత్తం చెట్లెన్ని ఉన్నాయి? _____






(ఈ) కొబ్బరి చెట్లు ఎన్ని ఉన్నాయి? _____

(ఉ) ఎన్ని గాలి బుగ్గలున్నాయి? _____

(ఊ) ఎంత మంది పిల్లలు గాలి బుగ్గలతో ఆడుతున్నారు? _____

2. మనీష్ తన గదిలో కొన్ని జంతువులు బొమ్మలను పెట్టుకున్నాడు.

కింది పట్టిక ఏ జంతువుల బొమ్మలు ఎన్ని ఉన్నాయో తెలుపుతుంది.

జంతువు	జంతువుల బొమ్మలు
సింహం	
కోతి	
జింక	
పులి	
కుక్క	

(అ) గదిలో ఏ జంతువు బొమ్మలు ఎక్కువగా ఉన్నాయి? _____

(ఆ) గదిలో మొత్తం ఎన్ని బొమ్మలున్నాయి? _____

(ఇ) సింహం, జింక రెండింటిలో వేటి బొమ్మలు ఎక్కువగా ఉన్నాయి? _____

(ఈ) ఏ జంతువుల బొమ్మలు సమానముగా ఉన్నాయి? _____

(ఉ) ఏ జంతువు బొమ్మలు అతి తక్కువ సంఖ్యలో ఉన్నాయి? _____

3. కింద ఇచ్చిన పట్టికలో నీ మరియు నీమిత్రుల పేర్లు రాయండి. ఒక గడిలోఒక అక్షరాన్ని రాస్తూ ఒక వరుసలో ఒక పేరు ఉండేలా చూడండి. ప్రతి పేరులోని మొత్తం అక్షరాలను లెక్కించండి. ఆ సంఖ్యను పట్టికలో రాయండి.

క్రమసంఖ్య	పేరు								అక్షరాల సంఖ్య
1									
2									
3									
4									
5									
6									
7									
8									
9									
10									

- (అ) నీ పేరులో మొత్తం ఎన్ని అక్షరాలున్నాయి? _____
- (ఆ) ఎవరి పేరులో అతి ఎక్కువ సంఖ్యలో అక్షరాలున్నాయి? _____
- (ఇ) ఎవరి పేరులో అతి తక్కువ సంఖ్యలో అక్షరాలున్నాయి? _____
- (ఈ) ఎన్ని పేర్లు 5 లేక 5 కన్నా తక్కువ సంఖ్యలో అక్షరాలున్నాయి? _____
- (ఉ) ఎంత మంది పేర్లు 5 కన్నా ఎక్కువ అక్షరాలతో ఉన్నాయి? _____
- (ఊ) పై పట్టికలోని పేర్లలో ఎన్ని 'క'లు ఉన్నాయి? _____
- (బు) ఏ అక్షరం ఎక్కువ సార్లు రాశారు? _____
- (ఎ) ఏ అక్షరం తక్కువగా వచ్చింది? _____

4. కూరగాయల దుకాణానికి వెళ్లి కింద చూపిన విధంగా ధరల పట్టికను తయారు చేయండి.

కూరగాయ పేరు	1 కిలో ధర
(అ)	
(ఆ)	
(ఇ)	
(ఈ)	
(ఉ)	

గణన చిహ్నాలు వాడుట.



కబడ్డీ ఆడేటప్పుడు పాయింట్లను గణన చిహ్నాల (|||||) తో నమోదు చేయవచ్చు. కింది పట్టికలో రెండు జట్ల పాయింట్ల వివరాలు ఉన్నాయి. వీటిని చదివి కింది ప్రశ్నలకు జవాబులు రాయండి.

జట్టు పేరు	గణన చిహ్నాలు	మొత్తం పాయింట్లు
చందు		9
రాజ్		16

ఏ జట్టుకు ఎక్కువ పాయింట్లు వచ్చాయి? _____

ఏ జట్టుకు తక్కువ పాయింట్లు వచ్చాయి? _____

రెండు జట్లు పాయింట్లలోని తేడా ఎంత? _____

5. నీవు ఆడే ఏదైన ఒక ఆటకు గణన చిహ్నాలు ఉపయోగించి పట్టికను తయారుచేయండి.

ఆట పేరు _____ ప్రతి జట్టులోని సభ్యుల సంఖ్య _____

జట్టు పేరు	గణన చిహ్నాలు	మొత్తం పాయింట్లు

నాకిష్టమైనవి...

మీ తరగతిలోని విద్యార్థులు వేటిని ఎక్కువగా ఇష్టపడతారో తెలుసుకుందాం. వారికి ఇష్టమైన రంగు ఎరుపా లేదా పసుపా లేదా మరేదైనా? అలాగే ఏ ఆటలను ఎక్కువ ఆడుతారు? ఏ ఆహార పదార్థాలను ఎక్కువగా ఇష్టపడతారు? మీరు అడిగి తెలుసుకొని గణన చిహ్నాల ఆధారంగా పట్టికలో నమోదు చేయండి.



తిండి పదార్థాలు	పిల్లల సంఖ్య (గణన చిహ్నాలు)
లడ్డు	
రసగుల్లా	
జిలేబి	
బిస్కెట్	
పెరుగు	
ఐస్ క్రీమ్	

- (అ) ఎంత మంది పిల్లలు లడ్డును ఎక్కువగా ఇష్టపడతారు? _____
- (ఆ) ఎంత మంది పిల్లలు జిలేబిని ఎక్కువగా ఇష్టపడ్డారు? _____
- (ఇ) దేనిని ఎక్కువ మంది పిల్లలు ఇష్టపడ్డారు? _____
- (ఈ) పట్టికలో లేని వాటిలో పిల్లలు ఇష్టపడిన ఏవైనా 3 ఆహార పదార్థాల పేర్లు తెలుపండి.

6. పై మాదిరిగానే ఇష్టమైన రంగులు మరియు ఆటలకు గణన చిహ్నాలతో కూడిన పట్టికలు తయారు చేయండి.

7. హాజరు కాని వారు ఎంత మంది?

మీ టీచర్ని గాని ప్రధానోపాధ్యాయుని గాని అడిగి మీ బడిలోని మొత్తం విద్యార్థుల సంఖ్య, వారిలో ఆరోజు హాజరైనవారు మరియు హాజరు కాని వారి వివరాలు నమోదు చేయండి.

రోజు నెల సంవత్సరం

తేది: _____

తరగతి	మొత్తం విద్యార్థుల సంఖ్య	హాజరైనవారి సంఖ్య	హాజరుకానివారి సంఖ్య
1వ తరగతి			
2వ తరగతి			
3వ తరగతి			
4వ తరగతి			
5వ తరగతి			
మొత్తం			

- (అ) 1వ తరగతిలో హాజరుకాని విద్యార్థుల సంఖ్య ఎంత? _____
- (ఆ) హాజరుకాని విద్యార్థులు ఏ తరగతిలో ఎక్కువగా ఉన్నారు? _____
- (ఇ) హాజరుకాని విద్యార్థులు ఏ తరగతిలో తక్కువగా ఉన్నారు? _____
- (ఈ) మీ తరగతిలో ఎంత మంది విద్యార్థులు హాజరైనారు? _____
- (ఉ) అన్ని తరగతులలో కలిపి ఎంత మంది పిల్లలు హాజరుకానివారు ఉన్నారు? _____