

وقت

9

نیچے دی گئی تصاویر دیکھیے۔ دن میں جس وقت وہ وقوع پذیر ہیں ان کی ترتیب لکھیے۔ پہلی تصویر آپ کے لیے مثال کے طور پر دی گئی ہے۔



کس کام میں زیادہ وقت درکار ہے؟

ذیل میں دو کام ایسے دیئے گئے ہیں جن کا آپس میں تعلق ہے۔ ان کا تقابل کیجیے اور بتائیے کہ کس کام کو زیادہ وقت درکار ہوتا ہے اور کس کام کو کم۔ زیادہ اور کم کے مطابق خالی خانے پر کیجیے۔

(A)



(B)



(C)





وقت کیا ہورہا ہے؟

جی! میں گھڑی ہوں۔ میں آپ کو بتاتی ہوں کہ کیا وقت ہورہا ہے۔
آپ دیکھ سکتے ہیں کہ مجھ پر 1 تا 12 اعداد لکھے گئے ہیں۔ میری دو
سوئیاں بھی ہیں۔ چھوٹی سوئی ”گھنٹے کی سوئی“ اور بڑی سوئی ”منٹ کی
سوئی“ کہلاتی ہے۔ میری دونوں سوئیاں مختلف رفتار سے حرکت کرتی
ہیں۔ گھنٹے کی سوئی منٹ کی سوئی سے آہستہ حرکت کرتی ہے۔

جب گھنٹے کی سوئی 3 پر ہوتی ہے۔ اس وقت 3 بجتے ہیں۔ جب گھنٹے کی سوئی 7 پر ہوتی ہے تب 7 بجتے ہیں اب
بتائیے جب گھانٹے کی سوئی 9 پر ہوتی ہے وقت کا ہوتا ہے، غور کیجیے کہ ان تمام حالات میں منٹ کی سوئی 12 پر ہوتی ہے۔

کوشش کیجیے


1. نیچے دی گئی گھڑیوں میں کیا وقت ہورہا ہے؟



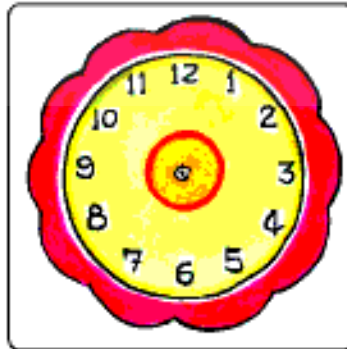




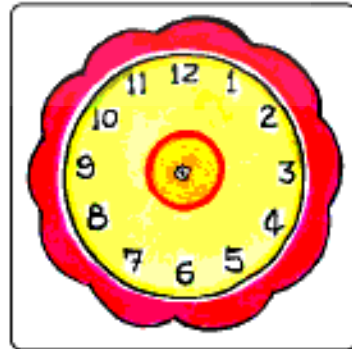
2. نیچے دی گئی گھڑیوں میں وقت بتائیے۔



11 بجے



2 بجے



12 بجے

1. ایک دن میں آپ کیا کیا کام کرتے ہیں؟
 - صبح سویرے آپ کب جاگتے ہیں؟ _____
 - آپ مدرسہ کس وقت جاتے ہیں؟ _____
 - دوپہر میں آپ کھانا کس وقت کھاتے ہیں؟ _____
 - آپ مدرسہ سے کس وقت واپس لوٹتے ہیں؟ _____
 - آپ رات میں کھانا کس وقت کھاتے ہیں؟ _____
 - رات میں کس وقت سوتے ہیں؟ _____
2. انجم اپنے چاچا کے مکان جا رہی ہے۔ صبح '9 بجے وہ چاچا کے مکان جانے کے لیے نکلی اور وہ اپنے چاچا کے گھر '12 بجے دوپہر کو پہنچی۔ اس کا کتنا وقت سفر میں گذرا؟
3. معراج نے شام '4 بجے سے کھیلنا شروع کیا اس نے '2 گھنٹے کھیلا۔ کس وقت اس نے کھیل ختم کیا؟
4. ریحانہ نے صبح '11 بجے سے ٹیلی ویژن دیکھنا شروع کیا اس نے 3 گھنٹے تک ٹیلی ویژن دیکھا۔ کس وقت اس نے ٹیلی ویژن دیکھنا ختم کیا؟
5. گوہر نے '5 گھنٹے مطالعہ کیا۔ شام '4 بجے اس نے مطالعہ ختم کیا بتائیے کہ گوہر نے کس وقت مطالعہ شروع کیا؟
6. ایک ٹانگی 2 گھنٹے میں مکمل بھری جاسکتی ہے۔ اگر میں اس ٹانگی کو 9 بجے سے بھرنا شروع کروں تب وہ ٹانگی کس وقت مکمل طور پر بھر جائے گی؟

ہفتے کے سات دن
آج کیا دن ہے؟



کل کیا دن ہوگا؟

ایک ہفتے میں کتنے دن ہوتے ہیں؟

ہفتے کا پہلا دن کون سا ہوتا ہے؟

ہفتے کا آخری دن کون سا ہوتا ہے؟

کس دن آپ کو تعطیل ہوتی ہے؟

ہفتے کے سات دن کے نام لکھیے۔



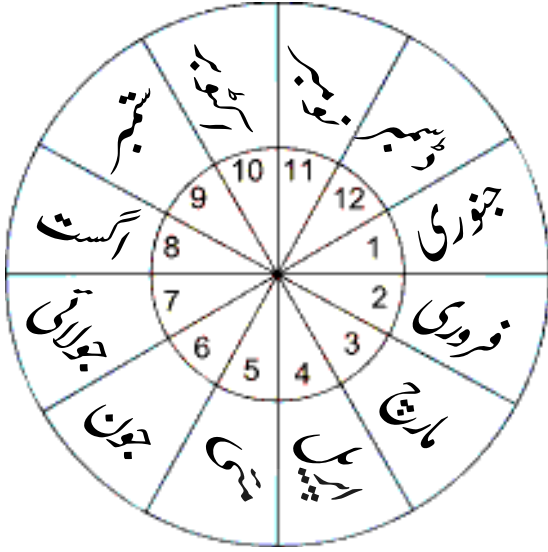
کوشش کیجیے

جوڑ ملائیے

ہفتے سے پہلے اور جمعرات کے بعد آتا ہے۔
چار شنبہ کے بعد اور جمعہ سے پہلے آتا ہے۔
جمعہ اور اتوار کے درمیان آتا ہے۔
پیر اور چار شنبہ کے درمیان آتا ہے۔
اتوار کے فوراً بعد دوسرا دن۔
عموماً تعطیل کا دن۔
جمعرات سے پہلے اور منگل کے بعد آتا ہے۔

(A) اتوار
(B) پیر
(C) منگل
(D) چار شنبہ
(E) جمعرات
(F) جمعہ
(G) ہفتہ

سال کے 12 مہینے



سال میں کتنے مہینے ہوتے ہیں؟

سال کا پہلا مہینہ کون سا ہوتا ہے؟

سال کا آخری مہینہ کون سا ہوتا ہے؟

ہر سال آپ یوم آزادی کب مناتے ہیں؟

ہر سال آپ یوم جمہوریہ کب مناتے ہیں؟

سال کے مہینوں کے نام لکھیے۔

آئیے سال 2011 کا کیلنڈر دیکھیں۔

CALENDAR-2011 - جنوری 2011

January جنوری

S	M	T	W	Th	F	Sa
						1
2	3	4	5	6	7	8
9	10	11	12	13	14	15
16	17	18	19	20	21	22
23	24	25	26	27	28	29
30	31					

February فروری

S	M	T	W	Th	F	Sa
		1	2	3	4	5
6	7	8	9	10	11	12
13	14	15	16	17	18	19
20	21	22	23	24	25	26
27	28					

March مارچ

S	M	T	W	Th	F	Sa
		1	2	3	4	5
6	7	8	9	10	11	12
13	14	15	16	17	18	19
20	21	22	23	24	25	26
27	28	29	30	31		

April اپریل

S	M	T	W	Th	F	Sa
					1	2
3	4	5	6	7	8	9
10	11	12	13	14	15	16
17	18	19	20	21	22	23
24	25	26	27	28	29	30

May مئی

S	M	T	W	Th	F	Sa
1	2	3	4	5	6	7
8	9	10	11	12	13	14
15	16	17	18	19	20	21
22	23	24	25	26	27	28
29	30	31				

June جون

S	M	T	W	Th	F	Sa
			1	2	3	4
5	6	7	8	9	10	11
12	13	14	15	16	17	18
19	20	21	22	23	24	25
26	27	28	29	30		

July جولائی

S	M	T	W	Th	F	Sa
					1	2
3	4	5	6	7	8	9
10	11	12	13	14	15	16
17	18	19	20	21	22	23
24	25	26	27	28	29	30
31						

August اگست

S	M	T	W	Th	F	Sa
	1	2	3	4	5	6
7	8	9	10	11	12	13
14	15	16	17	18	19	20
21	22	23	24	25	26	27
28	29	30	31			

September ستمبر

S	M	T	W	Th	F	Sa
				1	2	3
4	5	6	7	8	9	10
11	12	13	14	15	16	17
18	19	20	21	22	23	24
25	26	27	28	29	30	

October اکتوبر

S	M	T	W	Th	F	Sa
						1
2	3	4	5	6	7	8
9	10	11	12	13	14	15
16	17	18	19	20	21	22
23	24	25	26	27	28	29
30	31					

November نومبر

S	M	T	W	Th	F	Sa
		1	2	3	4	5
6	7	8	9	10	11	12
13	14	15	16	17	18	19
20	21	22	23	24	25	26
27	28	29	30			

December دسمبر

S	M	T	W	Th	F	Sa
				1	2	3
4	5	6	7	8	9	10
11	12	13	14	15	16	17
18	19	20	21	22	23	24
25	26	27	28	29	30	31

غور سے کیلنڈر دیکھیے اور درجہ ذیل سوالات کے جوابات دیجیے۔

- (A) ماہ جنوری میں کتنے دن ہیں؟

- (B) ماہ جون میں کتنے دن ہیں؟

- (C) ماہ فروری میں کتنے دن ہیں؟

- (D) ان مہینوں کے نام لکھیے جن میں 31 دن ہیں؟

(E) ان مہینوں کے نام لکھیے جن میں 30 دن ہیں؟

(F) کیلنڈر می 12 جنوری (سوامی وویکائند کی پیدائش کا دن پر دائرہ بنائیے۔

اکتوبر 2011 - October 2011

اتوار	پیر	منگل	چهار شنبہ	جمعرات	جمعہ	ہفتہ
						1
		4				
				13		
					21	
		24				
						30

اکتوبر 2011 کے کیلنڈر پر کام کیجیے۔

(A) اتوار پر سرخ رنگ بھریے

(B) گاندھی جینتی پر دائرہ بنائیے۔

(C) مہینے میں کتنے اتوار ہیں؟

(D) مہینے میں کتنے جمع ہیں؟

(E) چہار شنبہ کو 15 تاریخ ہے۔ اس کے بعد چہار شنبہ

کب آئے گا؟

(F) مہینے کا آخری دن کون سا ہے؟ تاریخ _____ دن _____

(G) مہینے کے آخری دن کے بعد دوسرے دن کیا تاریخ ہے؟ _____

مشغلہ - 1

ایک مربع کی شکل میں کوئی چار تاریخیں لیجیے۔ نیچے جس طرح بنایا گیا ہے اس طرح سے جمع کیجیے۔ نیچے کا مشاہدہ کیجیے۔

اتوار	4	11	18	25
پیر	5	12	19	26
منگل	6	13	20	27
چہارشنبہ	7	14	21	28
جمعرات	1	8	15	22
جمعہ	2	9	16	23
ہفتہ	3	10	17	24

$$\begin{array}{r} 1 \\ \times 8 \\ \hline 2 \\ \times 9 \\ \hline \end{array} \quad 2 + 8 = \underline{\quad}$$

$$\begin{array}{r} 13 \\ \times 20 \\ \hline 14 \\ \times 21 \\ \hline \end{array} \quad 14 + 20 = \underline{\quad}$$

$$\begin{array}{r} 23 \\ \times 30 \\ \hline 24 \\ \times 31 \\ \hline \end{array} \quad \underline{\quad}$$

آپ نے کیا مشاہدہ کیا؟

کوشش کیجیے

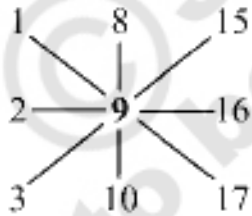
ایک سال کا کیلنڈر دیکھیے۔ مختلف مہینوں کے لیے کیا آپ کا مشاہدہ صحیح ہے؟

مشغلہ - 2

ایک مربع کی شکل میں کوئی نو تاریخیں لیجیے۔ نیچے جس طرح بنایا گیا ہے اس طرح سے جمع کیجیے۔ نیچے کا مشاہدہ کیجیے۔

اتوار	4	11	18	25	
پیر	5	12	19	26	
منگل	6	13	20	27	
چہار شنبہ	7	14	21	28	
جمعرات	1	8	15	22	29
جمعہ	2	9	16	23	30
ہفتہ	3	10	17	24	31

مثال:

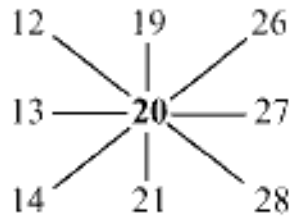


(A) $3 + 9 + 15 = \underline{\quad}$

(B) $2 + 9 + 16 = \underline{\quad}$

(C) $1 + 9 + 17 = \underline{\quad}$

(D) $8 + 9 + 10 = \underline{\quad}$



$\underline{\quad}$

$\underline{\quad}$

$\underline{\quad}$

آپ نے کیا مشاہدہ کیا؟