

## 8 9 వరకు సంఖ్యలతో తీసివేతలు



కింది బొమ్మలో ఏమేమి ఉన్నాయి? ఎన్ని ఉన్నాయి? చెప్పండి.



1. ఏనుగులు ఎన్ని ఉన్నాయి?
2. కుందేళ్లు ఎన్ని ఉన్నాయి?
3. ఏనుగుల కంటే కుందేళ్లు ఎన్ని ఎక్కువ?
4. కోతులు, ఉడతల కంటే ఎన్ని తక్కువ?
5. జిరాఫీల కంటే తాబేళ్లు ఎన్ని ఎక్కువ?
6. పాములు పక్షుల కంటే ఎన్ని తక్కువ?





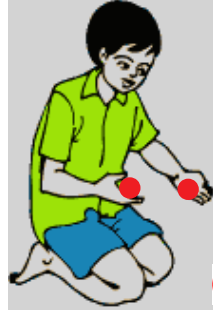



పై బొమ్మను పరిశీలించజేయండి. ప్రశ్నలకు జవాబులు చెప్పమనండి. తేడాను గుర్తింపజేయండి.

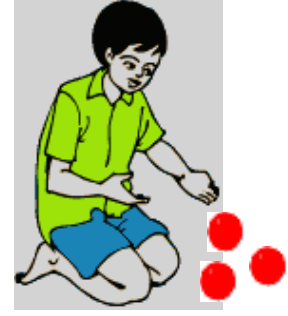
(అ) కింది తీసివేతను చూడండి. మిగిలినవెన్నో చెప్పండి.



5 నుండి



2 తీసివేసిన



మిగిలినవి 3

(ఆ) కింది తీసివేతను చూడండి. సంఖ్యలను గళ్లలో రాయండి.



నుండి



తీసివేసిన




మిగిలినవి

(ఇ) కింది తీసివేతను చూడండి.



3 - 1 =

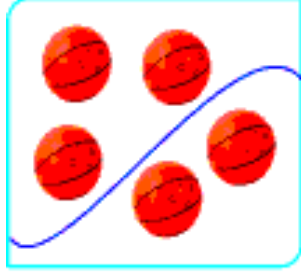


2

పై బొమ్మలను పరిశీలించజేయండి. తీసివేత భావనను, గుర్తును అవగాహన కల్పించండి.

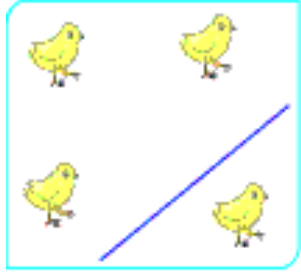
(ఈ) కింది బొమ్మలు చూడండి. గళ్లను సరైన సంఖ్యలచే నింపండి.

ఉదా :




$$\boxed{5} - \boxed{2} = \boxed{3}$$

(అ)



$$\boxed{\phantom{0}} - \boxed{\phantom{0}} = \boxed{\phantom{0}}$$

(ఆ)



$$\boxed{\phantom{0}} - \boxed{\phantom{0}} = \boxed{\phantom{0}}$$

(ఇ)






$$\boxed{\phantom{0}} - \boxed{\phantom{0}} = \boxed{\phantom{0}}$$


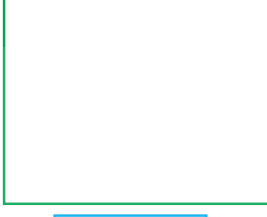

పై బొమ్మలు, సూచనల ఆధారంగా తీసివేత భావనను అవగాహన కల్పించండి.

(ఉ) బొమ్మలను చూడండి. లెక్కించండి. గళ్లలో సరైన సంఖ్యలు రాయండి.




ఉదా:

	-		=	
<input type="text" value="7"/>	-	<input type="text" value="0"/>	=	<input type="text" value="7"/>




(అ)

	-		=	
<input type="text"/>	-	<input type="text"/>	=	<input type="text"/>

(ఆ)

	-		=	
<input type="text"/>	-	<input type="text"/>	=	<input type="text"/>

(ఇ)

	-		=	
<input type="text"/>	-	<input type="text"/>	=	<input type="text"/>



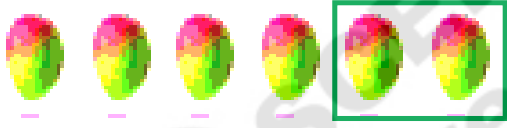


పై బొమ్మల ఆధారంగా కింది ఖాళీ గళ్లలో సరైన సంఖ్యలను రాయండి.

ఉదా:	<input type="text" value="7"/>	-	<input type="text" value="0"/>	=	<input type="text" value="7"/>	(అ)	<input type="text"/>	-	<input type="text"/>	=	<input type="text"/>	
	(ఆ)	<input type="text"/>	-	<input type="text"/>	=	<input type="text"/>	(ఇ)	<input type="text"/>	-	<input type="text"/>	=	<input type="text"/>



ఒక సంఖ్య నుండి 'సున్నా' తీసివేస్తే అదే సంఖ్య వస్తుందని పిల్లలకు అవగాహన కల్పించండి.

(ఊ) బొమ్మలను చూడండి. లెక్కించండి. గళ్లలో సరైన సంఖ్యలు రాయండి.

ఉదా:		$5 - 3 = \boxed{2}$	$\begin{array}{r} 5 \\ - 3 \\ \hline 2 \end{array}$
(అ)		$4 - 1 = \boxed{\phantom{0}}$	$\begin{array}{r} 4 \\ - 1 \\ \hline \phantom{0} \end{array}$
(ఆ)		$6 - 2 = \boxed{\phantom{0}}$	$\begin{array}{r} 6 \\ - 2 \\ \hline \phantom{0} \end{array}$
(ఇ)		$8 - 4 = \boxed{\phantom{0}}$	$\begin{array}{r} 8 \\ - 4 \\ \hline \phantom{0} \end{array}$
(ఈ)		$7 - 7 = \boxed{\phantom{0}}$	$\begin{array}{r} 7 \\ - 7 \\ \hline \phantom{0} \end{array}$



బొమ్మలను పరిశీలించజేయండి. సరైన సంఖ్యలను గళ్లలో రాయమనండి. అడ్డువరుస, నిలువవరుస తీసివేతలను అవగాహన కల్పించండి.



## అభ్యాసకృత్యాలు

(అ) కింది తీసివేతలు చేయండి.

ఉదా:  $6 - 4 = \boxed{2}$

$9 - 2 = \boxed{\phantom{00}}$

$8 - 2 = \boxed{\phantom{00}}$

$4 - 0 = \boxed{\phantom{00}}$

$7 - 4 = \boxed{\phantom{00}}$



$5 - 1 = \boxed{\phantom{00}}$

$3 - 3 = \boxed{\phantom{00}}$

$5 - 0 = \boxed{\phantom{00}}$

$4 - 4 = \boxed{\phantom{00}}$

$7 - 5 = \boxed{\phantom{00}}$

(ఆ) కింది తీసివేతలు చేయండి.

$\begin{array}{r} 4 \\ - 1 \\ \hline \hline \end{array}$

$\begin{array}{r} 5 \\ - 3 \\ \hline \hline \end{array}$

$\begin{array}{r} 3 \\ - 2 \\ \hline \hline \end{array}$

$\begin{array}{r} 2 \\ - 0 \\ \hline \hline \end{array}$

$\begin{array}{r} 7 \\ - 2 \\ \hline \hline \end{array}$

$\begin{array}{r} 8 \\ - 4 \\ \hline \hline \end{array}$

$\begin{array}{r} 6 \\ - 5 \\ \hline \hline \end{array}$


$\begin{array}{r} 5 \\ - 5 \\ \hline \hline \end{array}$

$\begin{array}{r} 9 \\ - 6 \\ \hline \hline \end{array}$

$\begin{array}{r} 8 \\ - 0 \\ \hline \hline \end{array}$

$\begin{array}{r} 6 \\ - 6 \\ \hline \hline \end{array}$

$\begin{array}{r} 4 \\ - 2 \\ \hline \hline \end{array}$



పై అభ్యాసకృత్యాలు పిల్లలు సొంతంగా చేసేలా సూచనలు అవగాహన కల్పించండి.

(ఇ) ఎడమవైపు కార్డుపై ఉన్న తీసివేతలను చేయండి. కుడివైపు వున్న సరిపడే లెక్కతో జతచేయండి.

$4-3$	$6-4$	
$5-3$	$5-4$	
$7-2$	$9-4$	
$6-3$	$7-3$	
$7-3$	$4-1$	

(ఈ) ప్రతి వరుసలోని తీసివేతలు చేయండి. జవాబు వేరుగా ఉన్నదానిపై '✓'ను ఉంచండి.

	ఉదా :	$6 - 2$	$8 - 4$	$5 - 3$ ✓	$9 - 5$
	(అ)	$7 - 5$	$9 - 7$	$4 - 2$	$6 - 2$
	(ఆ)	$8 - 3$	$5 - 1$	$6 - 1$	$7 - 2$
	(ఇ)	$3 - 2$	$4 - 1$	$5 - 4$	$6 - 5$

(ఉ) 1 నుండి 9 వరకు సంఖ్యలు ఉపయోగించండి. సరైన సంఖ్యలతో గళ్లను నింపండి.

ఉదా :	$6 - 0 = 6$		$6 - 0 = \square$
	$5 - \square = 3$		$8 - \square = 0$

 సూచనలకు అనుగుణంగా పై అభ్యాసాలను పిల్లలు సొంతంగా చేసేలా అవగాహన కల్పించండి.