

## అధ్యాయం - 8

### నిరంతర సమగ్రమూల్యాంకనం - అవగాహన

పిల్లలు బోధనాభ్యసన ప్రక్రియల్లో ఏ విధంగా పాల్గొంటున్నారు? ఏమేరకు భావనలపై అవగాహన పొందుతున్నారు? విద్యా ప్రమాణాల సాధనలో బోధనాభ్యసన ప్రక్రియలు ఫలవంత మయ్యాయా? మొదలగు అంశాలను తెలుసుకొనుటకు, లక్ష్యాలను నిర్ధారించుకోవడానికి మూల్యాంకనం అవసరం. ప్రస్తుతం పాఠశాలలో రెండు రకాలుగా మూల్యాంకనం నిర్వహిస్తున్నారు. అవి. 1. నిర్మాణాత్మక మూల్యాంకనం (Formative Evaluation) 2. సంగ్రహణాత్మక మూల్యాంకనం (Summative Evaluation) ఈ మూల్యాంకన విధానాల ద్వారా వేటిని మూల్యాంకనం చేస్తాం? ఎలా చేస్తాం? ప్రశ్న పత్రాలు ఎలా రూపొందించు కొంటామో ఈ అధ్యాయంలో చర్చిద్దాం.

- ◆ గణితంలో వేటిని మూల్యాంకనం చేయాలి? ఏ విధంగా చేయాలి?
- ◆ ఫార్మేటివ్ మూల్యాంకనం కోసం ఏయే అంశాలను దృష్టిలో ఉంచుకోవాలి?
- ◆ ఏయే అంశాలను దృష్టిలో ఉంచుకొని సమ్మేటివ్ మూల్యాంకనం నిర్వహిస్తాం?
- ◆ పిల్లల తప్పులను మనం ఎలా అర్థం చేసుకోవాలి. ఇవి మనకు బోధనాభ్యసన ప్రక్రియల నిర్వహణలో ఎలా తోడ్పడుతాయి?
- ◆ ప్రశ్న పత్రం తయారుచేసేటప్పుడు మనం దృష్టియందుంచుకోవల్సిన అంశాలు ఏవి?

**గణితంలో వేటిని మూల్యాంకనం చేయాలి?**

గణిత బోధనాలక్ష్యాలను గమనిస్తే సంఖ్య, అంతరాళములకు సంబంధించిన అంశాలు అవగాహన చేసుకోవడం, గణితపరంగా ఆలోచన / చింతన చేయగలగడం, ఊహించిన విషయాల నుంచి తార్కిక నిర్ణయాల వరకు అన్వేషణ కొనసాగించడం, అమూర్త భావనలను అర్థం చేసుకొని వాటిని సమర్థవంతంగా వాడగలగడం, సమస్య సాధన సామర్థ్యాలను పెంపొందించుకోవడం వంటివి దృష్టిలో ఉంచుకొని బోధనాభ్యసన ప్రక్రియలు నిర్వహించాలని మనకు తెలుస్తుంది. పై అంశాలను పరిశీలిస్తే పిల్లల్లో గణితంలోని వివిధ పాఠ్యాంశాల ద్వారా ప్రధానంగా కింద సూచించిన వాటిని సాధించాలని అవగతమవుతుంది. అవి:

1. సమస్య సాధన (Problem Solving)
2. కారణాలు చెప్పడం - నిరూపణలు చేయడం (Reasoning - proof)
3. వ్యక్తపరచడం (Communication)
4. సంబంధాలు (Connection)
5. ప్రాతినిధ్యపరచడం - దృశ్యీకరణ (Representation - Visualization)

గమనిక : విద్యార్థులు ఒక తరగతిలో ఏమి చేయగలగారు? (మౌఖిక ప్రక్రియలు) ఏమి తెలిసియుండాలి? (మౌఖిక భావనలు) స్పష్టంగా వివరించే (అంశాలు) ప్రవచనాలను (Statements) ఆ తరగతి యొక్క విద్యా ప్రమాణాలు అంటారు.

**మూల్యాంకనం ఏ విధంగా నిర్వహించాలి?**

పిల్లల యొక్క అభ్యసనా ప్రగతిని అంచనా వేయుటకు మూల్యాంకనంలో భాగంగా నిర్మాణాత్మక మూల్యాంకనం (Formative Evaluation) సంగ్రహణాత్మక మూల్యాంకనం (Summative Evaluation) నిర్వహించాలి.

**నిర్మాణాత్మక మూల్యాంకనం (Formative Evaluation) :**

బోధనాభ్యసన ప్రక్రియలు నిర్వహిస్తున్నప్పుడు విద్యాప్రమాణాలు సాధన ఎలా జరుగుతున్నది తెలుసుకోవడానికి నిర్మాణాత్మక మూల్యాంకనం (Formative Evaluation) నిర్వహించాలి. నిర్మాణాత్మక మూల్యాంకనంలో ఉపాధ్యాయుడు పిల్లల ప్రగతిని అంచనా వేయడానికి ప్రధానంగా కింది సాధనాలు బోధనాభ్యసన ప్రక్రియలో వినియోగించాలి. అవి.

(1) పిల్లల భాగస్వామ్యం - ప్రతిస్పందనలు (Participation - Reflection) (2) పిల్లల రాత పనులు (Classwork, Homework, Portfolio's, Assignments etc...) (3) స్లిప్ టెస్ట్ (Slip Test) (4) పిల్లల ప్రాజెక్టుపనులు (Children Projects).

పై అంశాలను బోధనాభ్యసన ప్రక్రియలో భాగంగా నిర్వహించాల్సి ఉంటుంది తప్ప పరీక్షలాగా, నిర్ణీత సమయంలో, నిర్ణీత కాల వ్యవధిలో నిర్వహించడం జరగదు. అనగా పాఠ్యబోధన జరుపుతున్న సందర్భంలో పిల్లలతో చర్చించడం, కృత్యాలు నిర్వహించడం, ప్రశ్నలు అడగడం, బోర్డుపై లెక్కలిచ్చి చేయమనడం, ఇంటి పనికి లెక్కలు ఇచ్చి చేయమనడం, అప్పటికప్పుడు నాలుగు, ఐదు సమస్యలు ఇచ్చి సాధించమనడం చిన్న చిన్న స్లిప్ టెస్ట్ లు నిర్వహించడం, అభిప్రాయాలు రాయమనడం, అసైన్ మెంట్లు ఇచ్చి నివేదికలు సమర్పించమనడం, బొమ్మలు, సమాచారం సేకరింపజేయడం, ప్రాజెక్టులు నిర్వహింపజేయడం. మొదలగునవి చేస్తుంటాం. వీటన్నిటిని లెక్కలోకి తీసుకొని పిల్లల ప్రగతిని అంచనా వేసినప్పుడు మాత్రమే వారి అభివృద్ధికి, వారు నేర్చుకోవడానికి, వారిని మరింత అవగాహన చేసుకోవడానికి ప్రయత్నించినవారమవుతాం. ఇది అత్యావశ్యకం. పై అంశాలను నిశితంగా గమనిద్దాం.

**1. పిల్లల భాగస్వామ్యం - ప్రతిస్పందనలు (Participation - Reflection) :** (పిల్లల్ని ప్రశ్నించడం - చర్చించడం - ప్రశ్నింపజేయడం)

పాఠ్యాంశాలను బోధిస్తున్నప్పుడు పిల్లలు కృత్యాలలో ఎలా పాల్గొంటున్నారు? ఉపాధ్యాయుడు అడిగే ప్రశ్నలకు ఎలా జవాబులిస్తున్నారో పరిశీలించాలి. పిల్లలు భావనల అవగాహనకు ఉదాహరణ సమస్యలు సాధించడం ద్వారా సాధారణీకరణలు చేయడం, సూత్రీకరణ చేయడం, నిరూపణలు చేయడం చేస్తారు. ఇవి వారికి ఏమేరకు అవగాహన కల్గిందో తెలుసుకొనుటకు “ప్రయత్నించండి”, “అలోచించండి - చర్చించండి” కృత్యాలు, సమస్యల ద్వారా తోటివారితో చర్చించడం, గ్రూపుల్లో చేయడం, అభిప్రాయాలు వెలిబుచ్చడం, నిర్ధారించడం వంటివి అందరు పిల్లలు చేయగల్గుతున్నారో లేదో పరిశీలించాలి. తద్వారా పిల్లల ప్రగతిని అంచనావేయాలి.

**2. పిల్లల రాత పనులు (Class work, Home work, Port folio, Assignments etc.) :**

పిల్లల రాత పనులలో భాగంగా నోటుబుక్కులు, హోంవర్కు కాపీలు, బోర్డుపై పిల్లలు సమస్యలు చేయడం, పాఠ్యపుస్తకాల్లోని పట్టికలు, సమస్యలు చేయడం, అసైన్ మెంట్లు, ఫోర్డుఫోలియోలు పరిశీలించాలి. వీటిలో వీరు చేసిన లెక్కలు, సేకరించిన సమాచారం, వెలిబుచ్చిన అభిప్రాయాలు సరిగా రాశారా, గణిత విద్యాప్రమాణాలు ప్రతిబింబించే విధంగా ఉన్నాయా చూడాలి. అనగా బోధనాభ్యసన ప్రక్రియలలో భాగంగా పాఠ్యాంశాలు, భావనలు, కృత్యాలు నిర్వహిస్తాం. ఉదాహరణలు సమస్యలు చెబుతుంటాము.

భావనలు, ఉదాహరణ సమస్యలు అవగాహన చేసుకున్న పిల్లలు “ఇవి చేయండి” లో ఉన్న సమస్యలు సొంతంగా తమ నోటు పుస్తకాలలో చేస్తున్నారా లేదా పరిశీలించాలి. అలాగే అభ్యాసాలలోని లెక్కలు నోటుపుస్తకాలలో తరగతిలో ఏ విధంగా చేస్తున్నారు, ఇంటి పనిని చేయగల్గుతున్నారా? లేదా పరిశీలించాలి. వాటితోపాటు పిల్లలకు ప్రాజెక్టుపని / అసైన్ మెంట్లు మొదలగునవి ఇచ్చి వాటి ఆధారంగా వారు చేసే తప్పలను అర్థం చేసుకుంటూ, బోధనాభ్యసన ప్రక్రియల్లో మార్పుచేస్తూ, నూతన పద్ధతులను పాటిస్తూ, వారికి సలహాలు ఇస్తూ పిల్లలు ప్రగతిని నిర్మాణాత్మక మూల్యాంకనంలో భాగంగా అంచనావేయాలి.

**3. స్లిప్ టెస్ట్ (Slip Test) :**

స్లిప్ టెస్ట్ అనేది అప్పటికప్పుడు నిర్వహించేది. ఇందుకోసం ప్రత్యేకంగా పిల్లలకు తెలియజేసి ముందస్తుగా ప్రణాళికలో నిర్వహించాల్సిన అవసరంలేదు. సాధారణంగా నిర్వహించే బోధనాభ్యసన ప్రక్రియల సమయంలోనే ఉపాధ్యాయులు స్లిప్ టెస్టును

నిర్వహించవచ్చు. సబ్జెక్టుకు సంబంధించిన ఏవైనా రెండు మూడు అంశాలు / భావనలు ఆధారంగా నిర్దిష్టమైన విద్యాప్రమాణాలు సాధించడానికి, ఉద్దేశించబడింది. ఈ విధంగా ఒక యూనిట్ బోధనాసమయంలో స్లిప్ టెస్టును నిర్వహించుకోవచ్చు.

#### 4. ప్రాజెక్టు పనులు (Projects Works) :

బోధనాభ్యసన ప్రక్రియల నిర్వహణ సందర్భంగా పనులు కేటాయించడం, ప్రాజెక్టుపనులు ఇవ్వడం చేస్తుంటాం. ప్రాజెక్టు పనిని పిల్లలకు గ్రూపులుగా చేసి లేదా వ్యక్తిగతంగాకాని ఇవ్వవచ్చు. ఇందుకోసం పిల్లలు క్షేత్రస్థాయిలో సమాచారాన్ని సేకరించడం, పట్టికల్లో నమోదుచేయడం, సమాచారాన్ని విశ్లేషించడం, అభిప్రాయాలను వ్యక్తపరచడం, బొమ్మలరూపంలో గ్రాఫులను ప్రదర్శించడం చేయాలి. వీటిని పరిశీలించిన ఉపాధ్యాయుడు ప్రాజెక్టుననుసరించి గ్రూపులలో గాని, వ్యక్తిగతంగాగాని విద్యార్థులతో చర్చించడం, ప్రశ్నించడం, వారు సమర్పించు నివేదికను పరిశీలించి విచక్షణతో, తగిన ఆధారాలతో పిల్లల ప్రగతిని అంచనావేయాలి.

#### సంగ్రహణాత్మక మూల్యాంకనం :

సంగ్రహణాత్మక మూల్యాంకనం అనగా కొంత కాలంలో (పీరియడ్ లో) నిర్దేశించిన పాఠ్యాంశాలలో పిల్లలు ఏమేరకు విద్యాప్రమాణాలు సాధించారో తెలుసుకొనుటకు ఉద్దేశించబడినది. సంగ్రహణాత్మక మూల్యాంకనం నిర్వహించే సమయాన్ని, తేదీని పిల్లలకు ముందే తెలియజేస్తారు. ఇందుకోసం సంగ్రహణాత్మక మూల్యాంకనం నాటికి అయిన అన్ని పాఠ్యాంశాలలో రాతపరీక్షను నిర్దేశించబడ్డ సమయంలో రెండున్నర గంటలపాటు నిర్వహిస్తారు. దీనిలో పిల్లలు తమ అభిప్రాయాలను, సమాధానాలను రాసిన దానిని బట్టి ఉపాధ్యాయులు వాటిని నిశితంగా పరిశీలించి పిల్లల ప్రగతిని (performance) అంచనావేయాలి. ఇందుకోసం కింది విధానాన్ని పాటించాలి.

- ◆ పరీక్ష నిర్వహణకోసం ఉపాధ్యాయులు సబ్జెక్టువారీగా నిర్ధారించిన విద్యా ప్రమాణాల ఆధారంగా ప్రశ్నాపత్రం రూపొందించుకోవాలి.
- ◆ మౌఖిక పరీక్షను ప్రత్యేకంగా నిర్వహించాల్సిన అవసరం లేదు. మౌఖిక పరీక్షకు సంబంధించిన విద్యా ప్రమాణాలకు కేటాయించిన మార్కులను ఉపాధ్యాయుడు తమ పరిశీలనల ఆధారంగా లేదా అంతకుముందు నమోదుచేసిన ఫార్మేటివ్ మూల్యాంకనం ఆధారంగా కేటాయించి పిల్లల ప్రగతిని నమోదుచేయాలి.
- ◆ రాత పరీక్షకోసం కేటాయించిన విద్యా ప్రమాణాలకోసం, ఆయా సబ్జెక్టులవారీగా నిర్ధారించిన భారత్వాల ప్రకారం విద్యాప్రమాణాల ఆధారంగా ప్రశ్నాపత్రం రూపొందించుకోవాలి.
- ◆ సంగ్రహణాత్మక మూల్యాంకనం (Summative Evaluation) ఒక విద్యా సంవత్సర కాలంలో రెండుసార్లు నిర్వహించాలి. కావున మొదటి సంగ్రహణాత్మక మూల్యాంకనం. అక్టోబర్ మాసంలో, రెండవ సంగ్రహణాత్మక మూల్యాంకనం మార్చి లేదా ఏప్రిల్ మాసంలో నిర్వహించాలి. మొదటి సంగ్రహణాత్మక మూల్యాంకనం కోసం ప్రశ్నాపత్రం రూపొందించుకొనేప్పుడు అక్టోబర్ నెలవరకు పూర్తయిన సిలబస్ ను పరిగణలోకి తీసుకోవాలి. అలాగే రెండవ సంగ్రహణాత్మక మూల్యాంకనంకోసం ప్రశ్నాపత్రం రూపొందించుకొనేప్పుడు పూర్తి పాఠ్యపుస్తకాన్ని అనగా అన్ని అధ్యాయాలను పరిగణలోకి తీసుకోవాలి. ఐతే రెండవ భాగం నుండి 60% నుండి 70% అంశాలకు ప్రాధాన్యత ఇస్తే మొదటి భాగంలో 30% నుండి 40% అంశాలకు ప్రాధాన్యత ఇవ్వాలి.
- ◆ సమ్మేటివ్ ప్రశ్నాపత్రాన్ని రూపొందించినపుడు అన్నిరకాల ప్రశ్నలకు ప్రాధాన్యత ఇవ్వాలి. అనగా పెద్ద ప్రశ్నలు, చిన్న ప్రశ్నలు, ఖాళీలు, బహుశైచిక ప్రశ్నలు మొదలగునవి.

పై రెండు మూల్యాంకనాలలో నిర్మాణాత్మక మూల్యాంకనంలో పిల్లల ప్రగతిని పరిశీలన, మౌఖిక, రాతరూపాలలో అంచనావేస్తే, సంగ్రహణాత్మక మూల్యాంకనంలో రాతరూపంలో మాత్రమే అంచనా వేయాల్సి ఉంటుంది. అయితే ప్రాథమిక తరగతులలో అనగా 1, 2 తరగతులకు కొంత వెయిటేజి మౌఖిక మూల్యాంకనం నిర్వహించడానికి ప్రాధాన్యత ఇవ్వాలి.

పై సందర్భాలలో భాగంగా బోధనాభ్యసన ప్రక్రియలలో మూల్యాంకనం నిర్వహిస్తున్నప్పుడు నిర్దేశించిన విద్యాప్రమాణాల సాధన ముఖ్యమైనదిగా భావించాలి. వీటి సాధనే ప్రాధాన్యతగా కృత్యాల నిర్వహణ, చర్చ అభిప్రాయసేకరణ జరగాలి. తద్వారా పిల్లల ప్రగతి అంచనా వేయబడాలి. ఇందుకోసం జులై, సెప్టెంబర్, డిసెంబర్, ఫిబ్రవరి మాసాలలో నిర్మాణాత్మక మూల్యాంకనం (Formative Evaluation), అక్టోబరు, మార్చి లేదా ఏప్రిల్ లో సంగ్రహణాత్మక మూల్యాంకనం నిర్వహించాలి.

**నిర్మాణాత్మక మరియు సంగ్రహణాత్మక మూల్యాంకనం నిర్వహణ సందర్భంగా దృష్టిలో ఉంచుకోవాల్సిన అంశాలు :**

- ◆ ఇప్పటి వరకు పిల్లల ప్రగతిని అంచనా వేయడానికి కేవలం రాత పరీక్షలకు మాత్రమే పరిమితమై ఉన్నాయి. కావున పిల్లలు ప్రగతిని అంచనా వేయడంలో రాత పరీక్షతోపాటు కింది అంశాలను కూడా దృష్టిలో ఉంచుకోవాలి.

1) పిల్లల భాగస్వామ్యం - ప్రతిస్పందనలు (Participation - Reflection), 2) పిల్లల రాత పనులు (నోటుబుక్లు, అసైన్మెంట్లు, పోర్టుఫోలియోలు (Written works), 3) స్లిప్ టెస్ట్ (slip test), 4) పిల్లల ప్రాజెక్టు పనులు (Children Project Works), 5) విద్యాప్రమాణాల ఆధారంగా రాతపరీక్ష (Written test based an Academic standards).

పైన తెలిపిన సాధనాలలో పిల్లల ప్రాజెక్టు పనులు, భాగస్వామ్యం - ప్రతిస్పందనలు, స్లిప్ టెస్టు, రాత పనులను నిర్మాణాత్మక మూల్యాంకనం (Formative Assessment), విద్యాప్రమాణాధారిత రాతపరీక్షను సంగ్రహణాత్మక మూల్యాంకనం (Summative Assessment) కోసం సాధనాలుగా వినియోగించాలి.

- ◆ CCE అనేది నిరంతరం జరిగే ప్రక్రియ. ఉపాధ్యాయులే తమ పిల్లల ప్రగతిని అంచనావేయడం ద్వారా తగిన సహాయం అందించి వారి అభివృద్ధికి కృషిచేయాల్సి ఉంటుంది. ఇందుకోసం ఎవరో / ఏదో సంస్థ తయారుచేసిన ప్రశ్నాపత్రాలతో పరీక్షలు నిర్వహించడం సహేతుకంకాదు. కాబట్టి CCE లో అతి ప్రధానమైనది ఉపాధ్యాయులే, తాము బోధించిన పాఠాల ఆధారంగా ప్రశ్నాపత్రాలు తయారుచేసుకోవడం.
- ◆ సాధారణంగా ప్రశ్నలు పాఠ్యపుస్తకంలోని విషయ ప్రాధాన్యతగా ఉంటాయి. కాని ప్రస్తుతం ప్రతి తరగతికి విద్యా సంవత్సరంలో సాధించాల్సిన విద్యా ప్రమాణాలను నిర్ధారించడమైనది. బోధనాభ్యసన ప్రక్రియలు విద్యా ప్రమాణాల సాధనకే నిర్వహిస్తారు. కావున మూల్యాంకనంలో కూడా వీటి సాధనకే ప్రాధాన్యమివ్వాలి. ఇందుకోసం విద్యాప్రమాణాల ఆధారంగా ప్రశ్నాపత్రాలు తయారుచేయాల్సి ఉంటుంది.
- ◆ పిల్లలకు మూల్యాంకనంలో ఇచ్చే ప్రశ్నలు, కృత్యాలు; ప్రాజెక్టులు వారిని ఆలోచింపజేసేలా, బహుళ సమాధానాలు రాసేలా, అన్వయించుకొనేలా, దైనందిన జీవితంలో వినియోగించేలా తమ అనుభవాలు, అభిప్రాయాలు వ్యక్తపరిచేలా ఉండాలి.
- ◆ సమస్య సాధన (Problem solving) విద్యాప్రమాణాల కోసం పిల్లలకిచ్చే సమస్యలు ప్రధానంగా పద సమస్యలు, పట సమస్యలు, దత్తాంశ అవగాహన - విశ్లేషణ, పట్టికలు - గ్రాఫ్, పద్ధతి ప్రకారం చేయు సమస్యలు, నిర్మాణాలు మొదలైన వివిధ రకాల సమస్యలతో, సంక్లిష్టతతోకూడి ఉంటాయి. ఈ సంక్లిష్టత అనేది వివిధ భావనలు, నిత్యజీవిత సందర్భాలలో అనుసంధానం చేయడం సమస్యలోని సోపానాల సంఖ్య, సమస్యలోని ప్రక్రియల సంఖ్య, సమస్యసాధనకు ఇవ్వబడిన 'సందర్భం సమాచారం, సమస్య సాధించే పద్ధతియొక్క సహజత్వంపై ఆధారపడి ఉంటాయి.
- ◆ కారణాలు చెప్పడం - నిరూపణలు చేయడం (Reasoning - proof) విద్యాప్రమాణానికి చెందిన సమస్యలు ఈ అంశాలతో కూడి ఉండేలా ఉండాలి. అవి దశలవారీగా ఉన్న సోపానాలకు కారణాలు వివరించడం లాంటివి గణిత సాధారణీకరణాలు మరియు పరికల్పనలను అర్థం చేసుకొని చేయగలిగే సమస్యలు, పద్ధతిని అర్థం చేసుకొని సరిచూడడం లాంటి సమస్యలు, తార్కిక చర్యలను పరీక్షించడం లాంటి సమస్యలు, సమస్య నిరూపణలోని క్రమాన్ని అర్థం చేసుకోవడానికి చెందిన సమస్యలు, గణిత ప్రకల్పనలను పరీక్షించడానికి చెందిన సమస్యలు, ఆగమన నిగమన పద్ధతులలో తార్కికతను వినియోగించడానికి చెందిన సమస్యలతో కూడిన వాటిని దృష్టిలో ఉంచుకొని నిర్మాణాత్మక, సంగ్రహణాత్మక మూల్యాంకనాలు నిర్వహించబడాలి.

- ◆ వ్యక్తపరచడం (Communication) అనే విద్యాప్రమాణాన్ని దృష్టిలో ఉంచుకొని నిర్మాణాత్మక, సంగ్రహణాత్మక మూల్యాంకనం నిర్వహించినపుడు గణిత భావనలను, వాక్యాలను చదవడం, రాయడానికి చెందిన సమస్యలు, గణిత వ్యక్తికరణలతో కూడిన సమస్యలు, గణిత పరమైన అలోచనలను తన స్వంత మాటల్లో వివరించడానికి చెందిన సమస్యలు, గణిత సమస్య పద్ధతిని, తార్కికతను వివరించడానికి ఉద్దేశించబడ్డ సమస్యలు ఇవ్వాలి. వీటిని పిల్లలందరూ ఎలా చేస్తున్నారో గమనించేలా, పరిశీలించేలా మూల్యాంకనం, బోధనాభ్యస ప్రక్రియలు ఉండాలి.
- ◆ సంబంధాలు (Connection) అనే విద్యా ప్రమాణం కోసం పిల్లలకు నిర్వహించే కృత్యాలు కాని, మూల్యాంకనం కాని కింది వాటిని సాధించబడేలా ఉండాలి. అనగా ఈ విద్యా ప్రమాణాలలో ఇచ్చే కృత్యాలు, సమస్యలు ప్రధానంగా అనుబంధ గణిత పాఠ్యభాగాలైన సంఖ్యలు, కూడిక, తీసివేత, గుణకారం, భాగహారం, నిష్పత్తి, అమరికలు, సౌష్ఠవం, కొలతలు మరియు తలం / అంతరం లకు చెందిన వివిధ భావనలను అనుసంధానం చేయగలగడం, ఈ భావనలతో కూడిన గణాంకాన్ని దైనందిక జీవితాన్ని అనుసంధానం చేయగలగడం, నేర్చుకున్న గణితాంశాలను వివిధ సజ్జెక్టులలోని అంశాలకు అనుసంధానం చేయడం, గణితంలోని వేర్వేరు భావనలతో కూడిన పాఠ్యాంశాలను అనుసంధానం చేయడం. భావనలను బహుళపద్ధతులకు అనుసంధానం చేయడం కూడ ఉండాలి. పై అంశాలను దృష్టిలో ఉంచుకొని మూల్యాంకన కృత్యాలు నిర్వహించడం ద్వారా పిల్లలు ప్రగతిని సాధించేలా చూడాలి.
- ◆ ప్రాతినిధ్యపరచడం - దృశ్యీకరణ (Visualisation and Representation) విద్యాప్రమాణాన్ని మూల్యాంకనం చేసేప్పుడు ఇచ్చే కృత్యాలు, సమస్యలు ప్రశ్నలు కింది అంశాలను దృష్టిలో ఉంచుకొని రూపొందించాలి. అవి (1) పట్టికలోని సమాచారం చదవడానికి ఉద్దేశించిన సమస్యలు, సంఖ్యారేఖ, పటచిత్రం, దిమ్మచిత్రం, 2D పటాలు, 3D పటాలు చదవడానికి ఉద్దేశించిన సమస్యలు, (2) పట్టికలను రూపొందించడం, సంఖ్యారేఖపై చూడడం, పటచిత్రములు, దిమ్మచిత్రములు, పటాలను గీయడానికి ఉద్దేశించబడే సమస్యలు.
- ◆ నిర్మాణాత్మక మూల్యాంకనం, సంగ్రహణాత్మక మూల్యాంకనం నిర్వహణ కోసం తరగతులవారీగా నిర్వహించాల్సిన సాధనాలు, పరిశీలించాల్సిన విద్యాప్రమాణాలు వాటి భారత్వం కింది పట్టికలో ఇవ్వడమైనది. నిర్ధారించిన లక్ష్యాల సాధనకు కింది పట్టికలోని అంశాలను దృష్టిలో ఉంచుకొని పిల్లల ప్రగతిని అంచనావేయాలి.

గణితం - భారత్వ పట్టిక

తరగతి	అంశం	ఫార్మేటివ్					గ్రేడు	సమ్మేటివ్											
		భాగస్వామ్యం - ప్రతిస్పందనలు	నోటు	పుస్తకాలు	ప్రాజెక్టు	రాత్రి సర్క్యూ		మోక్షం	సమస్య సాధన		కారణాలు నిరూపణలు		వ్యక్తపరచడం		సంబంధాలు		ప్రాతినిధ్యపరచడం - దృశ్యీకరణ		మొత్తం
									మౌ	రా	మౌ	రా	మౌ	రా	మౌ	రా	మౌ	రా	
1-2	భారత్వం	20%	20%	20%	40%	100%		10%	40%	10%	-	-	10%	10%	-	10%	10%	100%	
	పూర్ణాలు	10	10	10	20	50M		5	20	5	-	-	5	5	-	5	5	50M	
3-5	భారత్వం	20%	20%	20%	40%	100%		50%		20%		10%		10%		10%		100%	
	పూర్ణాలు	10	10	10	20	50M		25		10		5		5		5		50M	
6-9	భారత్వం	20%	20%	20%	40%	100%		40%		20%		10%		20%		10%		100%	
	పూర్ణాలు	10	10	10	20	50M		40		20		10		20		10		100M	

మౌ = మౌఖిక (Oral)  
రా = రాత (Written)

**ప్రశ్నాపత్రం రూపొందించేప్పుడు దృష్టిలో ఉంచుకోవాల్సిన అంశాలు :**

- ◆ నిర్మాణాత్మక మూల్యాంకనంలో slip test కోసం, సంగ్రహణాత్మక మూల్యాంకనం కోసం ప్రశ్నపత్రం రూపొందించుకోవాలి.
- ◆ నిర్మాణాత్మక మూల్యాంకనంలో slip test కోసం I నుండి IX తరగతులకు 20 మార్కులకు, సమ్మేటివ్ మూల్యాంకనం కోసం I నుండి V తరగతులకు 50 మార్కులకు, VI నుండి IX తరగతులకు 100 మార్కులకు ప్రశ్నాపత్రం రూపొందించుకోవాలి.
- ◆ సంగ్రహణాత్మక మూల్యాంకనంలో ప్రశ్నాపత్రం తయారుచేసేప్పుడు కింది భారత్వపట్టికలో సూచించిన విధంగా ప్రశ్నల రకాలు, వాటి సంఖ్య ఆధారంగా మాత్రమే సమస్యలు ఇవ్వాలి.
- ◆ భారత్వపట్టిక :-

క్ర.సం	ప్రశ్నల రకాలు	ప్రాథమిక స్థాయి			ఉన్నత పాఠశాల స్థాయి		
		ప్రశ్నలు	మార్కులు	మొత్తం	ప్రశ్నలు	మార్కులు	మొత్తం
1	పెద్ద ప్రశ్నలు (Essay)	4	5	20	4	10	40
2	చిన్న ప్రశ్నలు (Short type)	8	2½	20	8	5	40
3	అతి చిన్న ప్రశ్నలు (Very Short type)	5	1	5	10	1	10
4	ఖాళీలు & బహుళ ఐచ్ఛిక ప్రశ్నలు (Fill in the blanks & multiple Choice Questions)	5	1	5	20	½	10

- ◆ సంగ్రహణాత్మక మూల్యాంకనంలో ప్రశ్నాపత్రం రూపొందించుకొనేప్పుడు ప్రాథమిక తరగతులకు సమస్యాసాధన విద్యాప్రమాణానికి చెందిన ప్రశ్నలకు 50% భారత్వం, మిగతా విద్యా ప్రమాణాల ప్రశ్నలన్నింటికి కలిపి 50% భారత్వం ఉండేలా చూడాలి. అలాగే ఎలిమెంటరీ స్థాయిలో 40% భారత్వం సమస్యా సాధనకు మిగతా 60% భారత్వం ప్రశ్నలు మిగతా విద్యాప్రమాణాలకు కేటాయించుకోవాలి. సమస్యాసాధనపోసు మిగతా విద్యాప్రమాణాలకు కేటాయించే భారత్వం ఆయా అధ్యాయాలలోని అంశాలను బట్టి విద్యాప్రమాణాల వారీగా ఒక్కో విద్యాప్రమాణానికి కనీసం 10% నుండి అత్యధికంగా 20% వరకు ఇవ్వవచ్చు. ఇందుకోసం భారత్వపట్టికను పరిశీలించండి. అయితే ఎట్టిపరిస్థితుల్లో వేటి మొత్తం శాతం 60కి మించరాదు. (అనగా కింది భారత్వపట్టికలో సూచించిన విధంగా లేదా మరొకవిధంగా 20%, 15%, 15%, 10% ఉండేలా లేదా 20%, 15%, 10%, 15% లేదా 20%, 10%, 15%, 15% ఉండేలా కూడా ఇవ్వవచ్చు).

**తరగతి, విద్యాప్రమాణాల వారీగా భారత్వం - సమ్మేటివ్**

తరగతి	అంశం	సమస్యా సాధన	కారణాలు నిరూపణలు	వ్యక్తపరచడం	సంబంధాలు	ప్రాతినిధ్యపరచడం - దృశ్యీకరణ	మొత్తం
1 నుండి 2 తరగతులు	భారత్వం	50%	10%	10%	10%	20%	100%
	మార్కులు	25	5	5	5	10	50
3 నుండి 5 తరగతులు	భారత్వం	50%	20%	10%	10%	10%	100%
	మార్కులు	25	10	5	5	5	50
6 నుండి 9 తరగతులు	భారత్వం	40%	20%	10%	20%	10%	100%
	మార్కులు	40	20	10	20	10	100

- ◆ I, II తరతులకు 40% భారత్వం మౌఖిక పరీక్షకు, 60% భారత్వం రాత పరీక్షకు ఇవ్వబడినందున ఈ తరగతుల ప్రశ్నాపత్రం రూపొందించుకొనేప్పుడు మౌఖిక పరీక్షకు చిన్న చిన్న సంఖ్యలతో కూడి, చిన్న వాక్యాలతో ఉన్న ప్రశ్నలు మాత్రమే అడగాలి. 3 నుండి 5 మరియు ఎలిమెంటరీ తరగతుల (6 నుండి 9 తరగతులకు) కు ఒక రాతపరీక్ష మాత్రమే నిర్వహించాలి. కావున భారత్వ పట్టికను దృష్టిలో పెట్టుకొని ప్రశ్నాపత్రం తయారుచేసుకోవాలి.

**1, 2 తరగతులు, సమ్మేటివ్ - రాత - మౌఖిక పరీక్షల భారత్వ పట్టిక**

అంశం	సమస్య సాధన		కారణాలు నిరూపణలు		వ్యక్తపరచడం		సంబంధాలు		ప్రతిపాదించడం		మొత్తం
	మౌఖిక	రాత	మౌఖిక	రాత	మౌఖిక	రాత	మౌఖిక	రాత	మౌఖిక	రాత	
భారత్వం	10%	40%	10%	-	-	10%	10%	-	10%	10%	100%
మార్కులు	5	20	5	-	-	5	5	-	5	5	50

- ◆ వ్యాసరూప ప్రశ్నలు ఇచ్చినప్పుడు ప్రధానంగా రాత సమస్యలు లేదా ఎక్కువ తార్కికతతో కూడినవి లేదా రెండు, మూడు ప్రక్రియలతో కూడినవి లేదా ఎక్కువ ఆలోచన రేకెత్తించేవి ఇవ్వవచ్చు. ఎట్టి పరిస్థితుల్లోను short type రకాల ప్రశ్నలు, వాటికన్నా తక్కువ స్థాయిలో ఉన్న ప్రశ్నలు ఉండరాదు. ఎలిమెంటరీ స్థాయిలో సిద్ధాంతాలు, నిర్మాణాలు, సమీకరణ సాధనలు, గ్రాఫ్లు మొదలైనవి కూడా వ్యాసరూప ప్రశ్నలుగా ఇవ్వవచ్చు.
- ◆ Short type ప్రశ్నలలో ఒక ప్రక్రియతో కూడినవి, నేరుగా జవాబు వచ్చేవి. Figur Problems 4, 5 steps లో వచ్చేవి, చిన్న చిన్న వివరణలతో అంశాలతో కూడినవి ఇవ్వవచ్చు.
- ◆ Very short ప్రశ్నలలో చిన్న చిన్న లెక్కలు, మౌఖికంగా గణించగలిగే లెక్కలు, నిర్వచనాలు, సూత్రాలతో, సింబల్స్ తో కూడినవి, twist తో కూడినవి మొదలైనవి అడుగవచ్చు.
- ◆ Objective type ప్రశ్నలు చాలా తక్కువ సమయం తీసుకొని మౌఖికంగా గణనచేసేవి, ఆలోచనతో కూడినవి ఇవ్వాలి. ఎక్కువ గణనలు, ఎక్కువ ప్రక్రియలో ఉన్నవి ఇవ్వకూడదు.
- ◆ ఎట్టిపరిస్థితులలో Short types, Very short type లలో ఇచ్చే ప్రశ్నలు essay type లో ఉండే ప్రశ్నల స్థాయిలో కూడి ఉండరాదు. ఇలాగే మిగతా రకాల ప్రశ్నలలో కూడా ఉండేలా చూడాలి.
- ◆ Essay type, Short type, Very short type, Objective type ప్రశ్నలలో ఏ రకం ప్రశ్నలు ఇచ్చినప్పటికీ పిల్లల్ని ఆలోచింపజేసేలా, విద్యా ప్రమాణాల్ని సాధింపజేసేలా ఉండాలి. కాని బట్టి పట్టి జవాబులు రాసేలా ఉండకూడదు.
- ◆ ప్రతి విద్యాప్రమాణానికి ఇచ్చే Essay type ప్రశ్నలలో వీలయితే Choice గా అదనపు ప్రశ్నలు ఇవ్వవచ్చు లేదా రెండు ప్రశ్నలలో ఏదైన ఒక దానిని ఎన్నుకొనేలా Choice కూడా ఇవ్వవచ్చు. కాని మిగతా type ప్రశ్నలలో ఎలాంటి అదనపు ప్రశ్నలు ఇవ్వకూడదు. ఒక type ప్రశ్నలలో ఇచ్చిన ప్రశ్నలన్నియు ఒకే స్థాయిలో కూడినవిగా ఉండాలి. ఒకవేళ ఒక అధ్యాయంలో Essay type కు సమాన స్థాయి ప్రశ్న దొరకనప్పుడు short type స్థాయి ప్రశ్నలు రెండు కలిపి ఒక Essay type ప్రశ్నగా ఇవ్వవచ్చు.
- ◆ Essay ప్రశ్నలలో భాగంగా గ్రాఫుకాని, యాక్టివిటీగాని, situation గాని, సమాచార పట్టికలుగాని ఇచ్చి వీటిపై చిన్న చిన్న ప్రశ్నల ద్వారా (small questions) 10 మార్కులకు గాని లేదా 5 మార్కులకు గాని ప్రశ్నలు ఇవ్వవచ్చు.

**పిల్లలు రాసిన తప్పులను మనం ఎలా అర్థం చేసుకోవాలి?**

నిరంతరం సమగ్ర మూల్యాంకనం ఒక సంప్రదాయ సాధారణ పరీక్షకాదు. పిల్లలు నేర్చుకోవడానికి దోహదపడే ఒక బోధనాభ్యసన ప్రక్రియ (Assessment for learning). పాఠ్యబోధనకు ముందు, బోధనాభ్యసన ప్రక్రియలు జరుగుతున్నప్పుడు, తర్వాత తరగతి గదిలో, ప్రయోగశాలలో, గ్రంథాలయాలలో, ఆటస్థలంలో, నిత్యజీవిత వినియోగం మొదలగు సందర్భాలలో, పిల్లల శారీరక, మానసిక, సాంఘిక, ఉద్వేగ వికాసాలను పరిశీలించి నమోదుచేసే ప్రక్రియ. కావున బోధనాభ్యసన ప్రక్రియలు, కృత్యాల నిర్వహణ, ప్రాజెక్టుల నిర్వహణ, ఆటలు మొదలగు సందర్భాలలో పిల్లలు జట్లలో పనిచేయడం, ఉపాధ్యాయులతో చర్చించడం, ప్రశ్నించడం, ప్రదర్శించడం, అభిప్రాయాలను మౌఖిక, రాత రూపాలలో వ్యక్తపరచడం చేస్తుంటారు. వీటి ఆధారంగా మనం వారిని, వారి ప్రగతిని అంచనావేస్తుంటాం.

పిల్లలు మౌఖికంగా అభిప్రాయాలు వ్యక్తపరిచినప్పుడు, ప్రదర్శించినపుడు, మనం బోధనాభ్యసన ప్రక్రియల్లో వారితో చర్చిస్తున్నప్పుడు వారి అభ్యసనలోని తప్పులను పెద్దగా పట్టించుకోము, ఒకటికి రెండుసార్లు వివరిస్తుంటాము. అవసరమైతే ఒకటి రెండు సార్లు చేసిచూడమని కోరుతుంటాము. కాని ఆశ్చర్యకరమైన విషయం ఏమిటంటే ఒకవేళ పిల్లవాడు రాత రూపంలో నోటుబుక్ లో సమస్యను తప్పుగా రాసినప్పుడు జవాబును పరిశీలించి తప్పుగా రాసారని నీవు చేసింది తప్పు అని చెబుతుంటాం. తప్పు సమాధానం ఇచ్చిన విద్యార్థిని తప్పుగా అర్థం చేసుకోకూడదు. విద్యార్థికి కూడ వివేచన ఉంటుందని గ్రహించి అతడు ఆ సమాధానమేమిందుకు చెప్పాడో కనుకోవాలి. దీనికి కారణం భాషను అర్థం చేసుకోవడంలో పిల్లవాడు ఇబ్బందిపడడమా? లేక భావనను తప్పుగా అర్థం చేసుకోవడమా? ఇచ్చిన సూచనలను అర్థం చేసుకోలేకపోవడమా? సమస్యను చదివి అర్థం చేసుకోలేకపోవడమా? విశ్లేషణ చేయలేకపోవడమా? అనే అంశాలను విశ్లేషించుకోవాలి. అతడు చెప్పిన సమాధానంలో తానే తప్పును గుర్తించి తప్పును సరిదిద్దుకునేలా అవగాహన కల్పించాలి. ఎందుకు సరైనదో కాదో విస్తృత స్థాయిలో వివరించాలి.

ఇందుకోసం మనం బోధనాభ్యసన ప్రక్రియల సందర్భంగా ఉపయోగించే భాష, పదాలు, సాంకేతిక పదాలు మొదలగు వాటిపై దృష్టి ఉంచాలి. సూచనలు, పెద్దపెద్ద వాక్యాలుగా ఉండరాదు. పిల్లలు చదివి అర్థం చేసుకొనే సరళమైన భాషకు ప్రాధాన్యత ఇవ్వాలి ఉంది.

పిల్లలు మౌఖికంగా ఏర్పరుచుకున్న భావనలు, రాత పూర్వక పరీక్షలో ఉపయోగించుకోలేరు. ఎందుకు?

విద్యార్థులు నిజజీవిత సమస్యల సాధనలో తరగతి గదిలో నేర్చుకున్నట్లువంటి గణిత భావనలను ఉపయోగించుకుంటున్నారు. రాత పూర్వక పరీక్షల్లో పిల్లలు సమస్యలను అర్థం చేసుకోవడంలో తప్పిదాలు చేయడంవల్ల వారు నేర్చుకున్న భావనలను సరిగా వినియోగించుకోలేకపోతున్నారు. తరగతి గదిలో గణిత పఠనమైన పదజాలం అనేది చాలా ప్రాధాన్యత కల్గి ఉంటుంది. వాటిని పిల్లలు అవగాహన చేసుకునే విధంగా తరగతి గదిలో విస్తృత అభ్యాసాలు కల్పించాలి. పదజాలంను పరిచయం చేస్తూ నిజజీవిత అంశాలతో సమన్వయం చేయాలి.

ఉదాహరణకు ఒక విద్యార్థి కింది సమస్యను ఈ విధంగా చేశాడు అనుకుందాము.

$$\begin{array}{r} 94 \\ 28 \\ \hline 1112 \end{array}$$

ఒక ఉపాధ్యాయుడిగా ఈ తప్పును పిల్లవాడు ఎందుకు తప్పుగా చేసాడు అనే విషయాన్ని తెలుసుకోవాల్సిన అవసరం ఉంది. ముఖ్యంగా పిల్లలు స్థాన విలువల గురించి అవగాహన లేకపోవడం వల్లనే ఈ విధమైన పొరపాట్లు చేసే అవకాశం ఉంటుంది. ఇలాంటి పొరపాట్లు పునరావృతం కావద్దంటే వస్తువుల సహాయంతో కృత్యాన్ని చేయిస్తే పొరపాట్లను దూరం చేయగలుగుతాం.



94 =

28 =

94 ఆపిక్కు	=	90 ఆపిక్కు	+	4 ఆపిక్కు		
28 ఆపిక్కు	=	20 ఆపిక్కు	+	8 ఆపిక్కు		
	=	110 ఆపిక్కు	+	12 ఆపిక్కు		
	=	110 ఆపిక్కు	+	10 ఆపిక్కు	+	2 ఆపిక్కు
	=	120 ఆపిక్కు	+	2 ఆపిక్కు		
మొత్తం ఆపిక్కు	=	122 ఆపిక్కు				

అంటే ఒకట్ల స్థానంలోని 4ను 8ను కలిపితే 12 వస్తుంది. దీనిలో 1 పది; 2 ఒకట్లు ఉన్నాయి. కాబట్టి ఈ ఒక పదిని పదుల స్థానంలోకి అంకెలతో కట్టి కూడవలెను అనే అంశాన్ని పిల్లలకు విస్తృతంగా అవగాహన పరచాలి.

## సంగ్రహణాత్మక (సమ్మేటివ్) ప్రశ్న పత్రం - గణితం

విద్యార్థి పేరు : \_\_\_\_\_

తరగతి : 4వ తరగతి

### I. సమస్య సాధన (25 మార్కులు)

- (అ) రాణి వయస్సు 9 సం॥. ఆమె తల్లి వయస్సు, ఆమె వయస్సుకు 3 రెట్లు. అయిన తల్లి వయసు ఎంత? (2  $\frac{1}{2}$  మార్కులు)

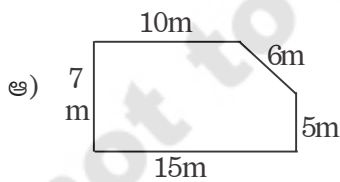
(ఆ) ఒక బియ్యం బస్తా బరువు 50 కి.గ్రా. అయిన 17 బస్తాల బరువు ఎంత? (2  $\frac{1}{2}$  మార్కులు)
- (అ) రెండు సంఖ్యల లబ్ధం 72. వాటిలో ఒకటి 12. అయిన రెండవ సంఖ్య ఎంత? (2  $\frac{1}{2}$  మార్కులు)

(ఆ) జెండా స్థంబము నీడ పొడవు 8AM కు 3m 45cm మధ్యాహ్నం 12 గం॥కు 1m 65cm అయినచో నీడ పొడవులో తేడా ఎంత? (2  $\frac{1}{2}$  మార్కులు)

(లేదా)

- (ఇ) కల్పన వాళ్ళ గేదె ప్రతిరోజు 15 లీ॥ పాలు ఇస్తుంది. కల్పన ఇంటి కోసం 8 లీ॥ 500 మి.లీ. ఉపయోగించినచో మిగిలిన పాలు ఎన్ని? (2  $\frac{1}{2}$  మార్కులు)

(ఈ) నీవు మీ కుటుంబ సభ్యులతో కలిసి ఆదివారం రోజున ఉదయం 10.30AM కు పికినిక్కు వెళ్ళావు. సాయంత్రం 4.20 వరకు గడిపావు. అయినచో నీవు అక్కడ ఎంతసేపు గడిపావు? (2  $\frac{1}{2}$  మార్కులు)
- ఒక మిఠాయి దుకాణంలో నీవు 20 కి.గ్రా. లడ్డు, 20 కి.గ్రా. బాదుషా కొన్నావు. 1 కి.గ్రా. లడ్డు ధర ₹120. 1 కి.గ్రా. బాదుషా ధర ₹150. అయినచో మొత్తం ఎంత చెల్లించావు? (5 మార్కులు)
- అ) లీల వద్ద 12 అరటిపండ్లు ఉన్నవి. అందులో ఆమె  $\frac{1}{4}$ వ భాగం తిన్నచో మిగిలిన అరటి పండ్లు ఎన్ని? (2  $\frac{1}{2}$  మార్కులు)



- ఇచ్చిన బొమ్మ చుట్టుకొలత ఎంత? (2  $\frac{1}{2}$  మార్కులు)

- కింది వాటికి జవాబు రాయండి.


- దీర్ఘచతురస్రాలు ఎన్ని భుజాలను కల్గిఉంటాయి? (1 మార్కు)
- $862 = \dots + \dots + \dots$  విస్తరించి రాయము. (1 మార్కు)
- $34 + 16 = \dots + 20$  ( $\frac{1}{2}$  మార్కు)
- ఈ 2, 4, 6, 8, ? ( $\frac{1}{2}$  మార్కు)
- $12 + 9 = \dots + 12$  ( $\frac{1}{2}$  మార్కు)
- ఆదివారం ఎన్ని రోజుల కొకసారి వస్తుంది? ( $\frac{1}{2}$  మార్కు)
- $75 \div 5 = ?$  ( $\frac{1}{2}$  మార్కు)
- $1 \text{ లీ} = \dots \text{ మి.లీ.}$  ( $\frac{1}{2}$  మార్కు)

**II. కారణాలు చెప్పడం - నిరూపణలు చేయడం (5 మార్కులు)**

1. జయ తన దగ్గర ఉన్న మామిడి పండ్లను ఇద్దరు పిల్లలకు సమానంగా పంచగా ఏమీ మిగిలేదు. ముగ్గురికి సమానంగా పంచగా ఒక పండు మిగిలింది. అయిన జయ దగ్గర ఎన్ని మామిడి పండ్లు ఉన్నాయి? వివరించండి. (5 మార్కులు)
2. కింది భాగాహారాలు చూడండి. అన్ని సమాధానాలు సరైనవేనా? ఎవరు తప్పుగా చేసారు? చేసిన తప్పేమిటి? (5 మార్కులు)

రమ	సుధ	కమల
10) 305 (30	10) 305 (30	10) 305 (3
300	30	30
<hr/>	<hr/>	<hr/>
5	5	5
	0	
	<hr/>	
	5	

**III. వ్యక్తపర్చుట (5 మార్కులు)**

1. 27, 52 ల మొత్తం 79 అవుతుంది. దీనిని గుర్తులను ఉపయోగించి తెలుపండి. (1 మార్కు)
2.  $5 \times 6 = 30$ . దీనికి సరిపడు ఒక రాతలెక్కను తెలుపండి. (1 మార్కు)
3. 9కి 8 కలిపినా, 8కి 9 కలిపినా సమానమే. గుర్తులనుపయోగించి తెలుపండి. (1 మార్కు)
4.  షేడ్ చేయబడిన భాగంను భిన్న రూపంలో తెలుపండి. ( $\frac{1}{2}$  మార్కు)
5. ఏడు, ఎనిమిదిల లబ్ధం ఏబది ఆరు. సంజ్ఞలనుపయోగించి తెలుపండి. ( $\frac{1}{2}$  మార్కు)
6.  $84 \div 7 = 12$ . మాటలలో రాయండి. ( $\frac{1}{2}$  మార్కు)
7. 5250 మి.లీ. = \_\_\_\_\_ లీ. \_\_\_\_\_ మి.లీ. ( $\frac{1}{2}$  మార్కు)

**IV. అనుసంధానం (5 మార్కులు)**

1. అ)

పతకం	విశేషపేరు	దేశం	జెవెలిన్ విసిరిన దూరం
స్వర్ణం	స్నాతకోవా బార్బరా	జెకొస్లేవేకియా	69 మీ. 55 సెం.మీ.
రజతం	క్రిస్టినా	జర్మనీ	65 మీ. 16 సెం.మీ.
కాంస్యం	లిండా	జర్మనీ	64 మీ. 91 సెం.మీ.

పై టేబుల్ నుండి కింది ప్రశ్నలకు సమాధానమిమ్ము. (5 మార్కులు)

- (అ) జావెలిన్ విసిరిన దూరంలో బార్బరాకు, క్రిస్టినాకు గల తేడా ఎంత?
- (ఆ) బార్బరా, లిండాలకు జావెలిన్ విసిరిన దూరంలో తేడా ఎంత?

(ఇ) ఎవరు జావెలిన్‌ను ఎక్కువ దూరం విసిరారు?


(ఈ) ఎవరు జావెలిన్‌ను తక్కువ దూరం విసిరారు?

అ) సోమయ్య ₹175లు, అతనిభార్య ₹125లు సోమవారం నాడు సంపాదించారు. వారు ₹25లకు బియ్యం, ₹8లకు కూరగాయలు, ₹57లు పెట్టి ఇతర వస్తువులు కొన్నారు. ఆ రోజున వారు చేసిన పొదుపు ఎంత?

(5 మార్కులు)

### V. ప్రాతినిధ్యపర్చడం (5 మార్కులు)

1. ఏ నూనె నిల్వ ఎంత ఉంది? ఒక నూనె వ్యాపారి వారంలో చివరిరోజున అతని వద్ద మిగిలి ఉన్న నూనె ప్యాకెటుల స్టాక్ వివరాలను కింది పటం ద్వారా చూపారు. వీటి ఆధారంగా కింది ప్రశ్నలకు జవాబులు తెలుపండి.



పల్లి నూనె    పామాయిల్    సన్‌ఫ్లవర్ నూనె    కొబ్బరి నూనె    తవుడు నూనె

(అ) ఏ రకం నూనె స్టాక్ ఎక్కువగా ఉంది? \_\_\_\_\_

(1 మార్కు)

(ఆ) ఏ రకం నూనె స్టాక్ ఎక్కువగా ఉంది? \_\_\_\_\_

(1 మార్కు)

(ఇ) ఒకవేల వారంలోని మొదటి రోజున 20 సన్‌ఫ్లవర్ నూనెపాకెట్లు ఉన్నట్లయితే, చివరి రోజువరకు అమ్ముడుపోయిన పాకెట్లు ఎన్ని? \_\_\_\_\_

(3 మార్కులు)

## సంగ్రహణాత్మక (సమ్మేటివ్) ప్రశ్న పత్రం - గణితం

విద్యార్థి పేరు : \_\_\_\_\_

తరగతి : 5వ తరగతి

### I. సమస్య సాధన (25 మార్కులు)

1. ఒక వారంలో సోమవారం నుండి శుక్రవారం వరకు 5 రోజులలో బస్సు టికెట్లు ద్వారా వచ్చిన రాబడి రోజు వారీగా ₹2350, ₹1335, ₹1750, ₹2250 మరియు ₹1900గా ఉన్నాయి. ఈ 5 రోజులలో టికెట్ల ద్వారా వచ్చిన మొత్తం ఎంత? (5 మార్కులు)

(లేదా)

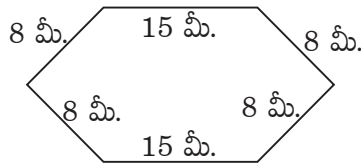
ఒక రోజుకు 24 గంటలు. రవి అందులో  $\frac{1}{3}$  భాగం నిద్రపోతాడు.  $\frac{1}{2}$  భాగాన్ని చదవడానికి, ఇతర పనులు చేయడానికి మరియు  $\frac{1}{6}$  భాగాన్ని ఆటలాడుటకు కేటాయిస్తాడు. ఈ విధముగా రవి ఒక రోజులో దేనికి ఎన్ని గంటలు కేటాయించాడు.

2. ఒక షాపులో 3 గడియారాలు ఉన్నాయి. అందులో ఒకటి ప్రతి 5 ని||లకు, రెండవది ప్రతి 15 ని||లకు, మూడవది ప్రతి 30 ని||లకు ఒకసారి చొప్పున అలారం మోగిస్తాయి. ఈ మూడు గడియారాలు 10.00 గంటలకు ఒకసారి అలారం మోగించాయి. మరల అన్నీ కలిసి ఒకేసారి ఎన్ని గంటలకు (ఏ సమయంలో) అలారం మోగిస్తాయి? (5 మార్కులు)

(లేదా)

రాజు తన కారులో ప్రతీ 3 రోజుల కొకసారి 5 లీ.ల పెట్రోల్ పోయిస్తాడు. అయిన అతను ఒక నెలలో ఎన్ని లీ.ల పెట్రోల్ పోయిస్తాడు? పెట్రోల్ ధర లీ.కు ₹69 అయిన రాజు పెట్రోల్ కోసం నెలకు ఎన్ని రూపాయలు ఖర్చు చేస్తాడు.

3. 3600కు ఎంత కలిపితే 7450 వస్తుంది? (2  $\frac{1}{2}$  మార్కులు)
4. ఒక తోట నుండి ఒక రోజులో 936 ఆపిలు పండ్లు తెంపినారు. వాటిని సమానంగా 12 పెట్టెలలో ప్యాక్ చేసి మార్కెట్ కు పంపారు. ఒక్కో పెట్టెలో ఎన్ని పండ్లు ఉన్నాయి? (2  $\frac{1}{2}$  మార్కులు)
5. ఆశిష్ తన హోంవర్క్ లో  $\frac{7}{12}$  భాగాన్ని శనివారం రోజున,  $\frac{3}{12}$  భాగాన్ని ఆదివారం రోజున చేశాడు. రెండు రోజులలో కలిపి ఆశిష్ చేసిన హోంవర్క్ భాగమెంత? (2  $\frac{1}{2}$  మార్కులు)
6. రామయ్య పొలం పటం ఇవ్వబడినది. ఈ పొలం చుట్టుకొలత ఎంతో తెలుపండి. (2  $\frac{1}{2}$  మార్కులు)



7. ప్రతి సంఖ్యకు కారణాంకమైన సంఖ్య ఏది? రెండు ఉదాహరణలు తెలుపండి. (1 మార్కు)
8. నేను నాల్గవ సంఖ్యను వేల స్థానంలో 6, వందల స్థానంలో 7, పదుల స్థానంలో 8, ఒకట్ల స్థానంలో 9 ఉన్నాయి. అయిన నేనేవరిని? (1 మార్కు)
9.  $18 \times 19 = \text{_____} \times 18$  (1  $\frac{1}{2}$  మార్కు)
10. ఒక కిలోమీటర్ లో ఎన్ని 100 మీ. ఉన్నాయి? (1  $\frac{1}{2}$  మార్కు)

11. **H** పక్క పటములో ఎన్ని లంబ కోణాలు ఉన్నాయి?  $\left(\frac{1}{2}\right)$  మార్కు

12. గాయత్రి 6.00 A.M. కు నిద్రలేచి 9.00 P.M. కు నిద్రపోయిన ఆమె ఎంత సమయం మెలకువగా ఉంది?  
\_\_\_\_\_  $\left(\frac{1}{2}\right)$  మార్కు

13. ఒక రోజుకు ఎన్ని నిమిషాలు \_\_\_\_\_  $\left(\frac{1}{2}\right)$  మార్కు

14.  పక్క పటము యొక్క వైశాల్యం \_\_\_\_\_ చతురస్ర యూనిట్లు.  $\left(\frac{1}{2}\right)$  మార్కు

**II. కారణాలు చెప్పడం - నిరూపణలు చేయడం (10 మార్కులు)**

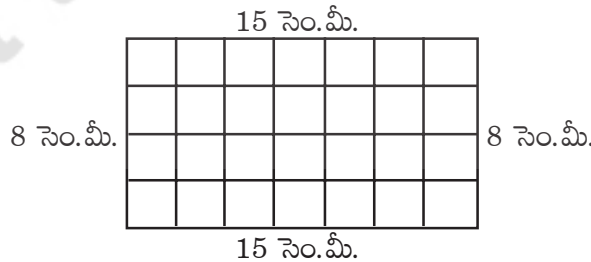
1. అ)  $50 \div 3 = ?$  ను లత, భాగ్య ఇలా చేశారు.  $(5)$  మార్కులు

లత	భాగ్య
$\begin{array}{r} 15 \\ 3 \overline{)50} \\ \underline{3} \\ 20 \\ \underline{15} \\ 5 \end{array}$	$\begin{array}{r} 16 \\ 3 \overline{)50} \\ \underline{3} \\ 20 \\ \underline{18} \\ 2 \end{array}$

పైన వారు చేసిన భాగాహారాలలో ఎవరు చేసినది సరైనది? కారణం తెలపండి.

(లేదా)

అ) రాము కింద ఇచ్చిన పటం యొక్క వైశాల్యమును ఈ కింది విధముగా కనుగొన్నాడు.  $(5)$  మార్కులు



$$\begin{aligned} \text{పటము యొక్క వైశాల్యం} &= 15 \text{ సెం.మీ.} + 8 \text{ సెం.మీ.} + 15 \text{ సెం.మీ.} + 8 \text{ సెం.మీ.} \\ &= 46 \text{ చ. సెం.మీ.} \end{aligned}$$

రాము కనుగొన్న వైశాల్యం సరైనదేనా కానిచో కారణం తెలిపి సరిచేసి రాయండి.

2. అ) ఒక వ్యక్తి 250 మి.లీ., 500 మి.లీ. పాల ప్యాకెట్లను అమ్మాడు. ఒకవేళ అతను 6 లీ. పాలను మొత్తం 17 ప్యాకెట్లను చేసి అమ్మితే ఏ రకం ప్యాకెట్లు ఎన్ని అమ్మాడు?  $\left(2\frac{1}{2}\right)$  మార్కులు

అ) 10 మొక్క గుణిజాలన్నీ 2 మరియు 5ల యొక్క గుణిజాలు అవుతాయి. ఈ వాక్యము సరైనదేనా? కాదా? ఎందుకు?  $\left(2\frac{1}{2}\right)$  మార్కులు


**III. వ్యక్తపర్చుట (5 మార్కులు)**

1. కింద తేదీని చదివి అక్షరాలలో రాయండి. (1 మార్కు)  
26/01/2000 \_\_\_\_\_
2. ఒక రొట్టెను 6 గురికి సమానంగా విభజించగా ఒక్కొక్కరికి ఎంత భాగము రొట్టె వస్తుందో తెలుపండి. (1/2 మార్కు)  
\_\_\_\_\_
3.  $2\frac{1}{3}$  మరియు  $2\frac{1}{5}$  ల మధ్య సరైన (>, <, =) గుర్తునుంచండి (1/2 మార్కు)  
 $2\frac{1}{3}$    $2\frac{1}{5}$
4. ₹128 + ₹413 దేనికి దగ్గరగా ఉంది. ( ) (1/2 మార్కు)  
(అ) 500                      (ఆ) 600                      (ఇ) 700                      (ఈ) 400
5. 1223 మీ. ను కి.మీ., మీ., సెం.మీ.లలోకి తెలుపండి. (1 మార్కు)  
1223 మీ. = \_\_\_\_\_ కి.మీ., \_\_\_\_\_ మీ., \_\_\_\_\_ సెం.మీ.
6. 2 గంటల 15 నిమిషాలను నిమిషాలలో తెలుపండి. \_\_\_\_\_ (1/2 మార్కు)
7. ఈ కింది సంఖ్యల మధ్య సరైన (>, <, =) గుర్తును ఉంచుము. (1/2 మార్కు)  
3671  3167

**IV. అనుసంధానం (5 మార్కులు)**

1. రామయ్య 30 బస్తాల ధాన్యం పండించాడు. అందులో 20 బస్తాల ధాన్యాన్ని బస్తాకు ₹800 చొప్పున అమ్మాడు. మిగిలిన ధాన్యాన్ని బస్తాకు ₹350 చొప్పున అమ్మాడు. అయిన రామయ్యకు మొత్తం ఎన్ని రూపాయలు వస్తాయి? (2 1/2 మార్కులు)
2. పొన్న గ్రామములో రామయ్య 12లీ. 500 మి.లీ. పాలను, జాని 10 లీ. 700 మి.లీ. పాలను సొసైటీకి పోస్తారు. అయితే 1లీ||పాలకు ₹30 చెల్లిస్తే వారు పొందే డబ్బులు ఎన్ని? (2 1/2 మార్కులు)

**V. ప్రాతినిధ్యపర్చడం (5 మార్కులు)**

1. అ) కాసిందేవి పేట ప్రాథమిక పాఠశాలలో తరగతి వారీగా విద్యార్థుల సంఖ్య I = 10, II = 25, III = 20, IV = 35, V = 15 ఇవ్వబడింది. దీనిని 5 గురు విద్యార్థులు =  గా తీసుకొని పట్టికను తయారుచేయండి.

క్ర.సం.	తరగతి	తరగతిలోని పిల్లల సంఖ్య	మొత్తం పిల్లల సంఖ్య

(లేదా)

- అ) మీ తరగతి గదిని జాగ్రత్తగా పరిశీలించి దాని యొక్క ఫ్లోర్ మ్యాప్‌ని గీయండి.