

7 మొత్తం 9 కి మించని కూడికలు



కింది బొమ్మను చూడండి. పూసలను లెక్కించండి. మొత్తం ఎంతో చెప్పండి.

<p>3</p>	<p>3 కు 1 కలుపగా</p>	<p>4</p>
<p>4</p>	<p>4 కు 1 కలుపగా</p>	<p>5</p>
<p>5</p>	<p>5 కు 1 కలుపగా</p>	<p>6</p>
<p>6</p>	<p>6 కు 1 కలుపగా</p>	<p>7</p>


















ఒక సమాహానికి ఒక్కొక్క వస్తువును కలుపుతూ మొత్తంను లెక్కింపజేయండి.

పై బొమ్మలో చూపినట్లు పూసలను లెక్కింపజేయడం ద్వారా కూడికను అవగాహన కల్పించండి.

ఉదా: 3 కు 1 కలుపగా 4

(అ) బొమ్మలు లెక్కించండి. మొత్తాన్ని రాయండి.





ఉదా:

		కలిపి 
<input type="text" value="5"/> పూలు	<input type="text" value="2"/> పూలు	<input type="text" value="7"/> పూలు
		కలిపి 
<input type="text" value="2"/> పుస్తకాలు	<input type="text" value="3"/> పుస్తకాలు	<input type="text" value="5"/> పుస్తకాలు
		కలిపి 
<input type="text"/> బంతులు	<input type="text"/> బంతులు	<input type="text"/> బంతులు
		కలిపి 
<input type="text"/> కొవ్వొత్తులు	<input type="text"/> కొవ్వొత్తులు	<input type="text"/> కొవ్వొత్తులు
		కలిపి 
<input type="text"/> బాతులు	<input type="text"/> బాతులు	<input type="text"/> బాతులు





ఒక సమూహంలోని వస్తువులకు రెండవ సమూహంలోని వస్తువులను కలిపి మొత్తాన్ని లెక్కింపజేయండి. గళ్లలో సరిపడు సంఖ్యలు రాయమనండి.



(ఆ) బొమ్మలు లెక్కించండి. మొత్తాన్ని రాయండి.

				
5	+	1	=	6
				
<input type="text"/>	+	<input type="text"/>	=	<input type="text"/>
				
<input type="text"/>	+	<input type="text"/>	=	<input type="text"/>
				
<input type="text"/>	+	<input type="text"/>	=	<input type="text"/>
				
<input type="text"/>	+	<input type="text"/>	=	<input type="text"/>



 ఒక సమూహంలోని వస్తువులకు రెండవ సమూహంలోని వస్తువులను కలిపి మొత్తాన్ని లెక్కింపజేయండి. గళ్లలో సరిపడు సంఖ్యలు రాయమనండి.



(ఇ) కింది లెక్కను చూడండి.



	3
	1
+	
	4



		
3	+	1
4		=

కింది లెక్కలను పైన చూపిన విధంగా చేయండి.

	1
	5
+	

		
1	+	5
		=





	4
	2
+	





		
4	+	2
		=











సంఖ్యలకు సరిపడు విధంగా చుక్కలను ఉంచమనండి. మొత్తాన్ని లెక్కింపజేసి గడిలో సరైన సంఖ్యను రాయమనండి. అడ్డు వరుస, నిలువ వరుస కూడికలపై అవగాహన కల్పించండి.

(ఈ) కింది బొమ్మలను చూడండి. లెక్కించండి. మొత్తం ఎంతో చెప్పండి.

			=		3 2 + 1 6	
<input type="text" value="3"/>	+	<input type="text" value="2"/>	+	<input type="text" value="1"/>	=	<input type="text" value="6"/>





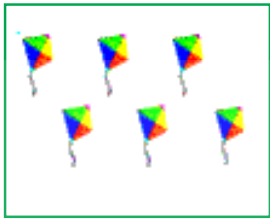










			=		3 1 + 4	
<input type="text" value="3"/>	+	<input type="text" value="1"/>	+	<input type="text" value="4"/>	=	<input type="text"/>

			=		4 3 + 2	
<input type="text" value="4"/>	+	<input type="text" value="3"/>	+	<input type="text" value="2"/>	=	<input type="text"/>

			=		5 2 + 2	
<input type="text" value="5"/>	+	<input type="text" value="2"/>	+	<input type="text" value="2"/>	=	<input type="text"/>

 మొత్తంనకు సరిపడు విధంగా చుక్కలను ఉంచమనండి. గడిలో సరైన సంఖ్యను రాయమనండి.

(ఉ) బొమ్మలను చూడండి. లెక్కించండి. గళ్లలో సరైన సంఖ్యలు రాయండి.

	+		=	
<input type="text" value="5"/>		<input type="text" value="0"/>		<input type="text" value="5"/>
	+		=	
<input type="text" value="0"/>		<input type="text" value="6"/>		<input type="text" value="6"/>
	+		=	
<input type="text"/>		<input type="text"/>		<input type="text"/>
	+		=	
<input type="text"/>		<input type="text"/>		<input type="text"/>
	+		=	
<input type="text"/>		<input type="text"/>		<input type="text"/>



'సంఖ్య'కు 'సున్నా' కలిపిన లేదా 'సున్నా'కు 'సంఖ్య'ను కలిపిన మొత్తం అదే సంఖ్య అవుతుంది. అని పిల్లలకు అవగాహన కల్పించండి.

 అభ్యాసకృత్యాలు

(అ) జతపరచండి.

ఉదా : $4 + 3$



(అ) $2 + 6$



(ఇ) $3 + 3$



(ఈ) $2 + 3$



(ఉ) $1 + 2$



(ఆ) జతపరచండి.

$4 + 3$

8

$7 + 2$

6

$5 + 1$

7

$6 + 2$

9

 పై అభ్యాసకృత్యాలు పిల్లలు సొంతంగా చేసేలా సూచనలు అవగాహన కల్పించండి.

(ఇ) కూడండి.

ఉదా: $4 + 2 = \boxed{6}$


$4 + 3 = \boxed{}$

$5 + 1 = \boxed{}$

$7 + 2 = \boxed{}$

$4 + 5 = \boxed{}$

$0 + 5 = \boxed{}$



$6 + 3 = \boxed{}$

$0 + 4 = \boxed{}$

$2 + 4 = \boxed{}$

$4 + 0 = \boxed{}$

$4 + 1 = \boxed{}$

$0 + 7 = \boxed{}$

(ఈ) కూడండి.

3

+ 4

7

+ 0

0

+ 4

5

+ 3

3

+ 1

8

+ 0

3

+ 2

7

+ 2

5

+ 2

0


+ 2

5

+ 4


4

+ 2



పై అభ్యాసకృత్యాలు పిల్లలు సొంతంగా చేసేలా సూచనలు అవగాహన కల్పించండి.

(ఉ) సరైన సంఖ్యలను గళ్లలో రాయండి. (పూసలను ఉపయోగించండి.)

ఉదా : 4 + <input type="text" value="3"/> = 7		(ఈ) 4 + <input type="text"/> = 8
(అ) 2 + <input type="text"/> = 8		(ఉ) <input type="text"/> + 3 = 6
(ఆ) <input type="text"/> + 4 = 6		(ఊ) <input type="text"/> + 5 = 9
(ఇ) 5 + <input type="text"/> = 7		(ఎ) 7 + <input type="text"/> = 9

(ఊ) ప్రతి వరుసలోని కూడికలను చేయండి. జవాబు వేరుగా ఉన్నదానిని '○' తో చుట్టండి.

ఉదా :	1 + 7	<input type="text" value="2 + 4"/>	4 + 4	5 + 3
(అ)	1 + 1	2 + 2	3 + 1	1 + 3
(ఆ)	4 + 1	2 + 3	3 + 2	4 + 2
(ఇ)	4 + 3	5 + 2	1 + 6	4 + 2
(ఈ)	4 + 4	3 + 5	4 + 3	2 + 6
(ఉ)	2 + 4	2 + 3	3 + 3	4 + 2



 పై అభ్యాసకృత్యాలు పిల్లలు సొంతంగా చేసేలా సూచనలు అవగాహన కల్పించండి.