

4 మూడంకెల సంఖ్యలను పోల్చడం



1. కింది నోట్లు, నాణాలు చూడండి. ఏవి ఎక్కువో? ఏవి తక్కువో చెప్పండి?

రంగమ్మ, సీతమ్మ సంతలో కూరగాయలు అమ్మారు. వారికి కింది విధంగా నోట్లు, నాణాలు వచ్చాయి. ఎవరు ఎక్కువ సంపాదించారు?



రంగమ్మ



సీతమ్మ



రంగమ్మ సంపాదించినది :

సీతమ్మ సంపాదించినది :



పై విధంగా నోట్లు, నాణాలు ద్వారా మూడంకెల సంఖ్యలను పోల్చడంలో అవగాహన కల్పించండి.

452 లో వందలు 4 ఉన్నాయి. 381 లో వందలు 3 ఉన్నాయి.

రూ.400 కన్నా రూ.300 తక్కువ. అంటే రంగమ్మ ఎక్కువ సంపాదించింది.

రూ.452 కంటే రూ.381 చిన్నది. అనగా $381 < 452$ లేదా

రూ.381 కంటే రూ.452 పెద్దది. అనగా $452 > 381$

మరొకరోజు రంగమ్మ, సీతమ్మ కూరగాయలు అమ్మగా కింది విధంగా నోట్లు, నాణాలు వచ్చాయి. ఎవరు ఎన్ని సంపాదించినట్లు?



రంగమ్మ సంపాదించినది :

సీతమ్మ సంపాదించినది :

అనగా ఇద్దరు సమానంగా సంపాదించారు. $216 = 216$



పై విధంగా నోట్లు, నాణాలు ద్వారా మూడంకెల సంఖ్యలను పోల్చడంలో అవగాహన కల్పించండి.

2. కింది నోట్లు, నాణాలు చూడండి. ఏవి ఎక్కువో, ఏవి తక్కువో చెప్పండి.



354, 321 లో వందలు సమానంగా ఉన్నాయి.

ఇప్పుడు పదులను పరిశీలించండి.

354 లో 5 పదులున్నాయి. 321 లో 2 పదులున్నాయి.

354 లో, 321 లో కంటే పదులు ఎక్కువగా ఉన్నాయి.

కావున 354 పెద్ద సంఖ్య.

దీనిని 321 కన్నా 354 పెద్దది అని చదువుతాం.

$$354 > 321$$

అలాగే 354 కన్నా 321 చిన్నది అని చదువుతాం.







$$321 < 354$$

మూడంకెల సంఖ్యలలో
వందలు సమానంగా
ఉన్నప్పుడు పదులు
ఎక్కువగా ఉన్న సంఖ్యయే
పెద్ద సంఖ్య.



పై విధంగా నోట్లు, నాణాలు ద్వారా మూడంకెల సంఖ్యలను పోల్చడంలో అవగాహన కల్పించండి.

3. కింది నోట్లు, నాణాలు చూడండి. ఏవి ఎక్కువో, ఏవి తక్కువో చెప్పండి.

<p>231</p>			
<p>235</p>			

231, 235 లో వందలు, పదులు సమానంగా ఉన్నాయి.

ఇప్పుడు ఒకట్లను పరిశీలించండి. 231 లో 1 ఒకట్లున్నాయి.

235 లో 5 ఒకట్లున్నాయి.

231 లో కంటే 235 లో ఒకట్లు ఎక్కువగా ఉన్నాయి.

కావున 235 పెద్ద సంఖ్య.

అనగా 231 కన్నా 235 పెద్దది.

$$235 > 231$$

లేదా 235 కంటే 231 చిన్నది.

$$231 < 235$$

మూడంకెల సంఖ్యలలో
వందలు, పదులు
సమానంగా ఉన్నప్పుడు
ఒకట్లు ఎక్కువగా ఉన్న
సంఖ్యయే పెద్ద సంఖ్య.



పై విధంగా నోట్లు, నాణాలు ద్వారా మూడంకెల సంఖ్యలను పోల్చడంలో అవగాహన కల్పించండి.



1. పెద్ద సంఖ్యను గుర్తించి '✓' పెట్టండి.

- ఉదా: 294, 319 ✓
 (అ) 756, 432
 (ఆ) 670, 679
 (ఇ) 550, 543
 (ఈ) 856, 851

2. చిన్న సంఖ్యను గుర్తించి '○' చుట్టండి.

- ఉదా: 738, 769
 (అ) 463, 154
 (ఆ) 537, 645
 (ఇ) 248, 264
 (ఈ) 707, 705

3. ఖాళీ లలో సరైన $>$, $<$, $=$ గుర్తులను రాయండి.

ఉదా: - 304 201; 475 616; 254 254

- (అ) 620 580
 (ఆ) 937 975
 (ఇ) 763 746
 (ఈ) 864 953

- (ఉ) 620 580
 (ఊ) 937 975
 (ఎ) 763 746
 (ఏ) 864 953

4. కింది సంఖ్యలను ఆరోహణ, అవరోహణ క్రమంలో రాయండి.

	సంఖ్యలు	ఆరోహణక్రమం	అవరోహణక్రమం
ఉదా:-	367, 212, 684, 801	212 367 684 801	801 684 367 212
(అ)	405, 408, 500, 306	<input type="text"/> <input type="text"/> <input type="text"/> <input type="text"/>	<input type="text"/> <input type="text"/> <input type="text"/> <input type="text"/>
(ఆ)	684, 648, 635, 653	<input type="text"/> <input type="text"/> <input type="text"/> <input type="text"/>	<input type="text"/> <input type="text"/> <input type="text"/> <input type="text"/>
(ఇ)	339, 333, 337, 335	<input type="text"/> <input type="text"/> <input type="text"/> <input type="text"/>	<input type="text"/> <input type="text"/> <input type="text"/> <input type="text"/>
(ఈ)	569, 575, 557, 596	<input type="text"/> <input type="text"/> <input type="text"/> <input type="text"/>	<input type="text"/> <input type="text"/> <input type="text"/> <input type="text"/>

1 నుండి 7 వరకుగల అభ్యాసాలు పిల్లలు సొంతంగా చేయడానికి సూచనలను అవగాహనపరచండి.

5. 7, 8, 9 లతో ఏర్పడే మూడంకెల సంఖ్యలు రాయండి.

789

వీటిలో చిన్న సంఖ్య

పెద్ద సంఖ్య

పై సంఖ్యల ఆరోహణ క్రమం :

అవరోహణ క్రమం :

6. పదుల స్థానంలో 9 ఉండేలా మూడంకెల సంఖ్యలు పది రాయండి.

వీటిలో చిన్న సంఖ్య

పెద్ద సంఖ్య

7. 7, 4, 6 లతో ఏర్పడే రెండంకెల సంఖ్యలు, మూడంకెల సంఖ్యలు రాయండి. వాటిని గుర్తులు సరిపోయే విధంగా కింది గళ్లలో నింపండి.

ఉదా: రెండంకెల సంఖ్యలు : 74, 67, 46,

మూడంకెల సంఖ్యలు : 476, 467, 674,

ఉదా:	<input type="text"/> 74	>	<input type="text"/> 46	ఉదా:	<input type="text"/> 467	<	<input type="text"/> 674
(అ)	<input type="text"/>	<	<input type="text"/>	(బి)	<input type="text"/>	<	<input type="text"/>
(ఆ)	<input type="text"/>	>	<input type="text"/>	(ఈ)	<input type="text"/>	>	<input type="text"/>

సూచనలకు అనుగుణంగా పై అభ్యాసాలను పిల్లలు సొంతంగా చేసేలా అవగాహన కల్పించండి.