











### 3 1 నుండి 5 వరకు సంఖ్యలు



ఎడమవైపు బొమ్మలను లెక్కించండి. కుడివైపు అన్నే బొమ్మలు ఉన్నాయా? గీతగీస్తూ లెక్కించండి.

|   |  |
|---|--|
|    |   |
|    |    |
|   |   |
|  |  |
|  |  |



పైన చూపిన విధంగా మొదటి గ్రూపులో వున్న బొమ్మలతో రెండవ గ్రూపు బొమ్మలను జతపరచమనండి. లెక్కించడంపై అవగాహన కల్పించండి.

(అ) గేయాన్ని పాడుతూ అభినయం చేయండి.




ఒకటి ఒకటి ఒకటి  
మనిషికి ముక్కు ఒకటి

రెండు రెండు రెండు  
మనిషికి కళ్లు రెండు



మూడు మూడు మూడు  
రిక్షా చక్రాలు మూడు

నాలుగు నాలుగు నాలుగు  
కుర్చీ కాళ్లు నాలుగు




ఐదు ఐదు ఐదు  
చేతి వేళ్లు ఐదు




పై గేయాన్ని పిల్లలచే అభినయంచేస్తూ పాడించండి. 1 నుండి 5 సంఖ్యల వరకు పైన చూపిన వాటిని లెక్కింపజేయండి.


(ఆ) బొమ్మను చూడండి. ఏమేమి ఉన్నాయి?



పై బొమ్మలో ఏమేమి ఎన్ని ఉన్నాయో చెప్పండి.




ఎన్ని?



ఎన్ని?



ఎన్ని?



ఎన్ని?













ఎన్ని?








పై బొమ్మను పరిశీలించజేయండి. ఏవి ఎన్ని ఉన్నాయో లెక్కింపజేయండి. పిల్లలతో వాటి సంఖ్యను చెప్పించండి.






(ఇ) ఎడమవైపు ఉన్న బొమ్మలను లెక్కించండి. కుడివైపు అవే సంఖ్యలో ఉన్న చుక్కల బొమ్మలతో జతపరచండి.

|   |   |
|---|---|
|    |    |
|    |    |
|   |   |
|  |  |
|  |  |

 బొమ్మలను లెక్కింపజేయండి. సరిపడు చుక్కలతో జతపరచమనండి.

(ఈ) లెక్కించండి. జతపరచండి.

|   |
|---|
|    |
| <b>3</b>  |
|    |
| <b>2</b>  |
|    |
| <b>5</b>  |
|  |
| <b>1</b>  |
|  |
| <b>4</b>  |

|   |
|---|
|    |
| <b>2</b>  |
|     |
| <b>4</b>  |
|   |
| <b>1</b>  |
|  |
| <b>3</b>  |
|   |
| <b>5</b>  |




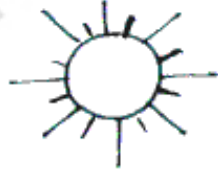
బొమ్మలను లెక్కింపజేస్తూ సంఖ్యలను గుర్తింపజేయండి. రెండవ గ్రూపులోని సరిపడుదానితో జతపరచమనండి.

# ఒకటి

బొమ్మను చూడండి. ఏవి ఏన్ని ఉన్నాయో లెక్కించండి. సంఖ్యను కింది గళ్లలో రాయండి.



ఒకటి



|   |     |     |     |     |     |     |
|---|-----|-----|-----|-----|-----|-----|
| 1 | ... | ... | ... | ... | ... | ... |
|   |     |     |     |     |     |     |

బొమ్మలను పరిశీలించజేయండి. ఏవి ఏన్ని ఉన్నాయో లెక్కింపజేయండి. సూచనలకు అనుగుణంగా సంఖ్యలను గుర్తింపజేయండి. గళ్లలో సంఖ్యను రాయమనండి.

# రెండు



బొమ్మను చూడండి. ఏవి ఎన్ని ఉన్నాయో లెక్కించండి. సంఖ్యను కింది గళ్లలో రాయండి.



2

రెండు



2



2

|   |   |   |   |   |   |   |
|---|---|---|---|---|---|---|
| 2 | 2 | 2 | 2 | 2 | 2 | 2 |
|   |   |   |   |   |   |   |



బొమ్మలను పరిశీలించజేయండి. ఏవి ఎన్ని ఉన్నాయో లెక్కింపజేయండి. సూచనలకు అనుగుణంగా సంఖ్యలను గుర్తింపజేయండి. గళ్లలో సంఖ్యను రాయమనండి.

# మూడు

బొమ్మను చూడండి. ఏవి ఎన్ని ఉన్నాయో లెక్కించండి. సంఖ్యను కింది గళ్లలో రాయండి.



3

మూడు



3

3

|   |   |   |   |   |   |   |
|---|---|---|---|---|---|---|
| 3 | 3 | 3 | 3 | 3 | 3 | 3 |
|   |   |   |   |   |   |   |

బొమ్మలను పరిశీలించజేయండి. ఏవి ఎన్ని ఉన్నాయో లెక్కించజేయండి. సూచనలకు అనుగుణంగా సంఖ్యలను గుర్తింపజేయండి. గళ్లలో సంఖ్యను రాయమనండి.



# నాలుగు



బొమ్మను చూడండి. ఏవి ఎన్ని ఉన్నాయో లెక్కించండి. సంఖ్యను కింది గళ్లలో రాయండి.




4

నాలుగు



4



4

|   |   |   |   |   |   |   |
|---|---|---|---|---|---|---|
| 4 | 4 | 4 | 4 | 4 | 4 | 4 |
|   |   |   |   |   |   |   |



బొమ్మలను పరిశీలించజేయండి. ఏవి ఎన్ని ఉన్నాయో లెక్కింపజేయండి. సూచనలకు అనుగుణంగా సంఖ్యలను గుర్తింపజేయండి. గళ్లలో సంఖ్యను రాయమనండి.

# ఐదు




బొమ్మను చూడండి. ఏవి ఎన్ని ఉన్నాయో లెక్కించండి. సంఖ్యను కింది గళ్లలో రాయండి.



5

ఐదు



5

5

|   |   |   |   |   |   |   |
|---|---|---|---|---|---|---|
| 5 | 5 | 5 | 5 | 5 | 5 | 5 |
|   |   |   |   |   |   |   |



బొమ్మలను పరిశీలించజేయండి. ఏవి ఎన్ని ఉన్నాయో లెక్కింపజేయండి. సూచనలకు అనుగుణంగా సంఖ్యలను గుర్తింపజేయండి. గళ్లలో సంఖ్యను రాయమనండి.



లెక్కించండి. సంఖ్యతో జతపరచండి.


|   |   |
|---|---|
|    | 4 |
|    | 1 |
|   | 2 |
|  | 5 |
|  | 3 |



బొమ్మలను లెక్కింపజేయండి. సరిపడు సంఖ్యతో జతపరచమనండి.



సంఖ్యలను చూడండి. అలాగే గళ్లలో రాయండి.



|   |   |  |  |  |
|---|---|--|--|--|
| 1 | 2 |  |  |  |
| 3 | 4 |  |  |  |
| 5 |   |  |  |  |
|   |   |  |  |  |
|   |   |  |  |  |























పై విధంగా సంఖ్యలు రాసే విధానాన్ని పరిశీలించజేయండి. అలాగే సంఖ్యలను గళ్లలో రాయించండి.



## అభ్యాసకృత్యాలు

(అ) లెక్కించండి. ప్రతి వరుసలో సంఖ్య వేరుగా ఉన్నదానిని '✓' చే గుర్తించండి.

ఉదా:













|   |   |  |   |
|---|---|--|---|
|    |    |    |    |
| <input type="checkbox"/>  | <input type="checkbox"/>  | <input type="checkbox"/>   | <input checked="" type="checkbox"/>   |
|    |    |    |    |
| <input type="checkbox"/>  | <input type="checkbox"/>  | <input type="checkbox"/>   | <input type="checkbox"/>  |
|   |   |   |   |
| <input type="checkbox"/>  | <input type="checkbox"/>  | <input type="checkbox"/>   | <input type="checkbox"/>  |
|  |  |  |  |
| <input type="checkbox"/>  | <input type="checkbox"/>  | <input type="checkbox"/>   | <input type="checkbox"/>  |
|  |  |  |  |
| <input type="checkbox"/>  | <input type="checkbox"/>  | <input type="checkbox"/>   | <input type="checkbox"/>  |



ప్రతి వరుసలోని బొమ్మలను లెక్కింపజేయండి. వేరుగా ఉన్న సంఖ్యను '✓' చే గుర్తింపజేయండి.

(ఆ) పై వరుసలోని గళ్లలో బొమ్మలను లెక్కించండి. వీటి ఆధారంగా కింది వరుసలలోని ఖాళీ గళ్లలో సరైన సంఖ్యలో బొమ్మలు గీయండి.

ఉదా:

|   |   |  |  |
|---|---|--|--|
|    |    |    |   |
|    |    |  |  |
|   |   |  |  |
|  |   |  |  |
|  |  |  |  |



ప్రతి వరుసలోని బొమ్మలను లెక్కింపజేయండి. క్రమంలో వచ్చే సంఖ్య ఆధారంగా అన్ని బొమ్మలు గీయించండి.

(బి) లెక్కించండి. సంఖ్యను రాయండి.

|  |  |
|--|--|
|   |  |
|   |  |
|   |  |
|   |  |
|  |  |

(ఈ) ఖాళీ గళ్లలో వరుసలో సంఖ్యలు రాయండి.

|   |   |   |   |
|---|---|---|---|
| 1 | 2 |   |   |
| 2 |   | 4 |   |
| 2 |   |   | 5 |
|   | 3 |   | 5 |

 పై అభ్యాసాలను పిల్లలు సొంతంగా చేసేలా సూచనలను అవగాహన కల్పించండి.

(ఉ) బొమ్మలను లెక్కించండి. కింద గళ్లలో వాటి సంఖ్యను రాయండి.



ఉదా: 

|   |
|---|
| 3 |
|---|

|  |
|--|
|  |
|--|

|  |
|--|
|  |
|--|

|  |
|--|
|  |
|--|

|  |
|--|
|  |
|--|

(ఊ) కింది సంఖ్యలను చూడండి. ఖాళీ గళ్లలో సరైన సంఖ్యలను రాయండి.

|                   |               |       |  |
|-------------------|---------------|-------|--|
| 1   2             | 1   2         | 1   2 |  |
| 1   2   3         | 1   2   3     |       |  |
| 1   2   3   4     | 1   2   3   4 | 2     |  |
| 1   2   3   4   5 |               | 3     |  |



పై అభ్యాసాలను పిల్లలు సొంతంగా చేసేలా సూచనలను అవగాహన కల్పించండి.